


MOH. MA'MUR dkk.

MENCENAL BUMI KITA



AFRIKA



PERPUSTAKAAN

— MUSEUM PUSAT —

21 :-

998.



PENERBIT TARATE BANDUNG




19 SEP 1978 950

210-
998

(7)

MENGENAL BUMI KITA

A FRIKA



disusun oleh
MOH. MA'MUR
T. RUMIATI
E. SUWARLI
A. WINDUDIPURO

cetakan kesepuluh
(diperbaharui)

PENERBIT TARATE BANDUNG

1974

PERPUSTAKAAN

PERPUSTAKAAN NASIONAL RI.

Tanggal : 7 Maret 2012
No. Induk : 19013/PN-MUSEUM/12
BIB - ID :
Beli / Hadiah : Ex. Museum

PERPUSTAKAAN

MUSEUM PUSAT DEPT. P. & K.
TANGGAL: 31 DEC 1978
KATALOGUSUL No: 5199 H

KATA PENGANTAR

Disesuaikan dengan perkembangan kurikulum, perkembangan situasi di negara kita dan perkembangan-perkembangan di negara lain, Seri Mengetahui Bumi Kita mulai penerbitan tahun 1971 mengalami perubahan-perubahan.

Seri Mengetahui Bumi Kita (MBK.) ini dipersembahkan dalam susunan yang baru, terdiri atas 8 jilid, yaitu :

- a. Indonesia Tanah Airku A — untuk kelas I
- b. Indonesia Tanah Airku B — untuk kelas II dan III
- c. Asia — untuk kelas I
- d. Afrika — untuk kelas I
- e. Australia dan Oceania — untuk kelas II
- f. Amerika — untuk kelas II
- g. Eropa — untuk kelas III
- h. Ilmu Bumi Alam Falak — untuk kelas II dan III

Tidak hanya dalam susunan seri MBK juga mendapat perubahan dalam susunan bahan yang dibicarakan pada tiap-tiap jilid dan dalam isi bahannya.

Dengan susunan yang baru ini, rekan-rekan pendidik akan lebih mudah mencari bahan utama, yaitu yang tertulis dalam Rencana Pendidikan S.M.P. Bahan-bahan inilah yang dibicarakan secara mendalam, Bahan-bahan lain, yang tidak tertulis dalam Rencana Pendidikan tsb., diterakan pula dalam MBK, hanyalah sekedar pelengkap dan dapat dibicarakan secepatas lalu.

Semoga dengan perubahan-perubahan itu, MBK dapat lebih banyak membantu para pendidik dan para pelajar dalam usahanya mencapai cita-cita pendidikan nasional.

Ucapan terima kasih penyusun sampaikan kepada rekan-rekan yang budiman yang telah menyampaikan saran-saran dan bantuan² dalam usaha penyempurnaan MBK ini.


Saran-saran yang lain masih tetap dinantikan.

Bandung, Juli 1974.

Para penyusun

Catatan :

MBK Afrika merupakan bahan untuk kelas I sesudah pembicaraan benua Asia selesai.



ma
nan
dae

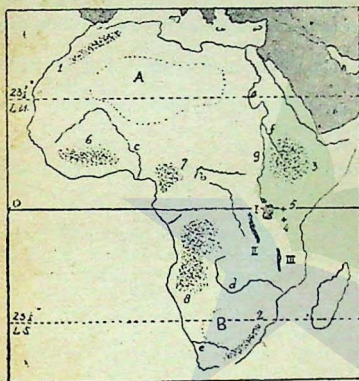
dar
Afr
itu

ber
da
ban
daa
per
dar
Per
rin

AFRIKA

Sejak zaman purbakala benua ini telah dikenal oleh bangsa Romawi yang menyebutnya benua Afrika. Nama Afrika diambil dari nama bangsa yang mendiami bagian utara benua itu, kira-kira di daerah Carthago sekarang, yaitu orang *Afri* atau *Afrikani*.

Di benua inilah terdapat kebudayaan manusia yang paling tua dan telah cukup tinggi, yaitu di Mesir. Sebutan "benua hitam" bagi Afrika dewasa ini sudah tidak berlaku lagi, karena dengan sebutan itu dimaksudkan benua yang masih ditempati oleh penduduk yang



1. Peg. Atlas
2. Peg. Naga
3. D.A. Abessinia
4. G. Kilimanjaro
5. C. Kenya
6. D.t. Guinea Hulu
7. D.t. Guinea Hilir
8. D.t. Bike dan Lunla
- A — gurun Sahara
- B — gurun Kalahari
- I — danau Victoria
- II — danau Tanganyika
- III — danau Nyassa
- a — sungai Nil
- b — sungai Congo
- c — sungai Niger
- d — sungai Zambesi
- e — sungai Oranje
- f — sungai Nil Biru
- g — sungai Nil Putih

Peta I. Benua Afrika
(Keadaan alamnya).

berperadaban sederhana. Perubahan yang sangat besar terjadi pada akhir abad ke 19, yaitu sejak benua itu didatangi oleh bangsa Eropa. Sejak zaman itu orang-orang Eropa menguasai keadaan ekonomi dan politik bagian-bagian benua Afrika. Sekali lagi perubahan yang hebat terjadi di benua ini pada tahun lima puluhan dan enam puluhan, yaitu dengan lahirnya negara-negara merdeka. Penduduk asli Afrika berangsur-angsur mendapat kekuasaan memerintah negaranya sendiri, bebas dari penjajahan.

Kecadaan alamnya.

Perhatikanlah Peta I di atas. Buka pula halaman Peta Afrika pada atlasmu !

Letak benua Afrika membujur dari Utara ke Selatan. Khatulistiwa memotong bagian tengah benua ini, Bagian-bagian benua Afrika yang paling Utara dan yang paling Selatan terletak di daerah iklim Subtropika. Untuk lebih mengenal benua tersebut, ikutilah pertanyaan-pertanyaan dan tugas di bawah ini dengan seksama.

1. Lihatlah di atlasmu garis 10° B.T. Terletak pada berapa derajat L.U.-kah bagian Afrika yang paling Utara ?
2. Kota apakah yang terletak dekat bagian yang paling Utara itu ?
3. Tentukan pula letak (lintang dan bujur) bagian benua itu yang paling Selatan !
4. Kemudian tentukan pula bagian-bagian yang paling Timur dan paling Barat !
5. Dengan demikian, tahulah kita letak benua itu, yaitu :
antara $^{\circ}$ BB dengan $^{\circ}$ BT dan
antara $^{\circ}$ LU dengan $^{\circ}$ LS.
Tulislah apa-apa yang baru kamu kerjakan itu pada buku catat-anmu !

Luas Afrika kira-kira 15 kali luas Indonesia.

Hampir seluruh benua itu bes-gunung². Dataran rendahnya terdapat di beberapa bagian pantai dan di lembah-lembah sungai tertentu. Ujung paling Barat deretan pegunungan Mediterania terletak di Afrika Utara, yaitu pegunungan Atlas. Dari situ jalur pegunungan Mediterania menyeberang ke Semenanjung Appenina (Italia) melalui pulau Corsica, terus ke pegunungan Alpina, Karpatia, dst. Semuanya itu terletak di sekitar laut Mediteran (laut Tengah).

Bagian Timur benua ini dihiasi dengan banyak danau, yaitu danau Nyasa, danau Tanganyika, danau Victoria dan danau Rudolf. Danau-danau itu terjadi karena patahan. Inilah daerah patahan yang terbesar di dunia. Dari daerah danau-danau di Afrika Timur itu, daerah patahan bersambung ke arah Utara, melalui laut Merah, teluk Acaba sampai ke lembah sungai Yordan di Asia Barat (lihat Peta X !). Sebagai akibat terbentuknya patahan, kecuali lahirnya danau-danau itu, yaitu adanya jeram-jeram di beberapa sungai. Itulah sebabnya beberapa bagian sungai di Afrika tidak baik untuk lalulintas air.

Di antara sungai-sungai yang terdapat di Afrika, sungai Nil merupakan sungai yang terbesar. Sebagian besar daerah aliran sungai ini terletak di wilayah Sudan dan Mesir. Aliran sungai yang

tidak p
aliriny
bagian
akan t
berasa
nya te
Nil Pu
dilalui

S
Lebar
demik
mudra
di wila
yang
Tetap
dapat
ngang
ibu ko
lagi d
pelaya
riam a
kan k

S
annya
nyak
ngai i
di bag
naga
Congg
naga
seluru

S
ngan
pat di
ngai

Pertar

1. D
2. M
- In
- Ja
3. M

tidak pernah kering itu merupakan "karunia" bagi daerah yang dialirinya, terutama bagi Mesir. Tanpa sungai itu Mesir akan menjadi bagian dari gurun Sahara, sehingga dengan demikian gurun Sahara akan bersambung dengan gurun Sinai. Air sungai Nil itu terutama berasal dari dua anak sungainya, yaitu sungai Nil Biru yang hulunya terdapat di danau Tana (dataran tinggi Ethiopia) dan sungai Nil Putih yang hulunya di danau Victoria, sebuah danau besar yang dilalui khatulistiwa.

Sungai Congo merupakan sungai yang berestuarium di Afrika. Lebar sungai ini didekat muaranya sekitar 11 dan 18 km. Dengan demikian sungai ini dapat dilayari jauh ke pedalaman. Kapal samudra dapat melalui sungai ini sampai ke Matadi sebuah pelabuhan di wilayah Zaire (dulu: Congo Kinshasa atau Congo Leopoldville), yang letaknya 145 km dari muara.

Tetapi beberapa km ke arah hulu dari Matadi sungai Congo itu tidak dapat dilayari sama sekali, karena di sana terdapat riam. Untuk pengangkutan di bagian ini dipergunakan kereta api sampai Kinshasa, ibu kota Zaire. Dari Kinshasa ke arah hulu sungai ini dapat dilayari lagi dengan kapal-kapal sungai dan bargas. Akan tetapi kemudian pelayaran itu terhalang lagi, karena di beberapa bagian terdapat riam atau jeram. Pada bagian-bagian yang terhalang itu, dipergunakan kereta api atau jalan mobil.

Sungai-sungai lain seperti Zambesi, Oranje dan Niger keadaannya seperti sungai Congo, yaitu sepanjang alirannya terdapat banyak riam atau jeram, sehingga kelancaran lalu lintas di sungai-sungai itu terhalang. Namun demikian, perbedaan tinggi yang besar di bagian sungai yang berjeram itu memungkinkan pembangkit tenaga listrik dibuat di situ. Telah diperkirakan, di bagian sungai Congo antara Matadi dengan Kinshasa saja dapat dibangkitkan tenaga listrik yang hasilnya lebih banyak dari pada tenaga listrik di seluruh Amerika Utara.

Sungai Gambia, walaupun tidak begitu besar dibandingkan dengan sungai-sungai yang lain di Afrika, merupakan sungai yang dapat dilayari sepanjang tahun sampai sejauh 315 km dari muara sungai itu.

Pertanyaan dan tugas :

1. Dari manakah asal nama Afrika ?
2. Masih ingatkah kamu, bahwa luas pulau Jawa 1/15 luas daratan Indonesia ?
Jadi berapa kali Jawakah luas benua Afrika ?
3. Melalui tanjung yang manakah deretan pegunungan Mediterania me-

- nyebrang dari Afrika ke benua Eropa ?
4. Dataran tinggi apakah yang terdapat di bagian Timur Afrika ?
 5. Carilah di atlas nama dua gunung yang tertinggi di Afrika ?
Gunung apakah namanya ? Di negara apa letaknya ?
 6. Apakah sebabnya bagian puncak gunung itu tertutup salju, padahal letaknya tidak jauh dari khatulistiwa ?
 7. Di daerah pantai Barat Afrika terdapat 3 dataran tinggi. Apakah nama dataran2 tinggi itu ?
 8. Dua buah gurun di Afrika masing2 dilalui GBU dan GBS.
 9. Apakah nama kedua gurun itu ? Sungai, danau dan gunung apakah di Afrika yang terletak tepat di khatulistiwa ?
 10. Di atlas dilukiskan sungai2 dengan garis2 putus di daerah gurun Sahara.
Apakah maksud garis putus2 itu ? Bandingkan dengan yang pernah kamu lihat pada peta Saudi Arabia dan Pakistan ?
 11. Daerah aliran sungai Congo berhutan lebat. Apakah nama hutan di daerah seperti itu ?
 12. Daerah gurun Kalahari terletak di bayangan hujan pegunungan Naga. Apakah maksudnya ?
 13. Apa sebab di Afrika terdapat banyak jeram ?
 14. Apa pula sebabnya beberapa bagian sungai di Afrika tidak baik untuk lalu lintas ?
 15. Sungai2 manakah di Afrika yang berhulu sebuah danau ?
 16. Antara Afrika dengan Eropa terdapat selat yang sempit. Selat apakah namanya ? Menghubungkan laut2 manakah selat itu ?
 17. Selat apa pula antara Afrika dengan Asia ? Laut2 apakah yang dihubungkan selat ini ?

Iklm.

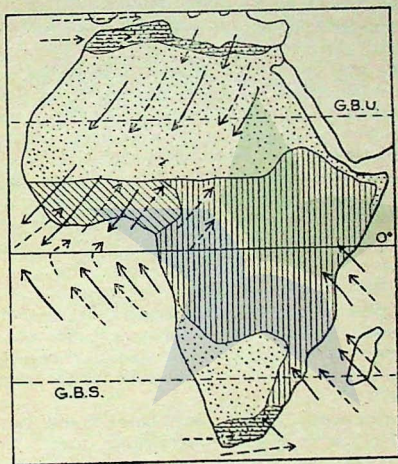
Seluruh benua Afrika pada dasarnya dapat dibagi atas 4 daerah iklim yang sifatnya jelas berbeda.

1. Daerah iklim tropika.

Daerah yang beriklim tropika merupakan bagian yang terbesar di antara daerah-daerah iklim yang lain. Penguapan di daerah iklim tropika sangat besar. Udara yang banyak mengandung uap air itu membubung ke atas. Karena pendinginan di lapisan udara yang tinggi, turunlah hujan di daerah sekitar ekwator. Itulah *hujan zenithal* yang turun sepanjang tahun. Daerah tropika di Afrika merupakan hutan hujan tropika yang sangat lebat.

Bagian pantai Timur Afrika sebelah Selatan khatulistiwa dipengaruhi angin pasat yang bertiup sepanjang tahun dan karenanya daerah ini mendapat hujan sepanjang tahun. Hujan di daerah itu termasuk *hujan naik* atau *hujan pegunungan*. Termasuk ke daerah ini pulau Madagaskar.

Daerah tropika sepanjang pantai Barat Afrika sebelah Selatan khatulistiwa mendapat curah hujan yang tidak besar. Daerah pantai Barat Afrika antara 15° LU dengan 30° LU curah hujan tahunannya kurang dari 25 cm, sehingga daerah ini tidak termasuk iklim tropika, melainkan iklim gurun.



Peta II. Peta iklim di Afrika.

- | | | | |
|--------------------------|---------------------------|----------------------------|---------------------------|
| — | = angin pada musim panas | [Stippled pattern] | = daerah iklim gurun |
| - - - - | = angin pada musim dingin | [Diagonal lines pattern] | = daerah iklim muson |
| [Vertical lines pattern] | = daerah iklim tropika | [Horizontal lines pattern] | = daerah iklim subtropika |

2. *Daerah iklim gurun.*

Daerah yang lebar antara 15° LU sampai perbatasan daerah iklim subtropika di pantai laut Tengah merupakan daerah iklim gurun yang sangat luas di Afrika Utara. Demikian pula daerah yang terletak di sebelah Barat pegunungan Naga sampai ke pantai Barat merupakan daerah yang beriklim gurun walaupun tidak seluas Gurun Sahara. Daerah sekitar garis lintang 30°, Utara maupun Selatan merupakan daerah tempat udara kering turun dari lapisan udara yang lebih tinggi. Angin pasat Timurlaut yang bertiup di atas Gurun Sahara dan angin Pasat Tenggara yang bertiup di daerah Gurun Kalahari merupakan angin yang kering pula. Kedua hal itulah yang menyebabkan terjadinya kedua gurun tersebut.

Ciri khas iklim gurun yaitu udara yang sangat kering. Hal itu menyebabkan perbedaan suhu antara siang dengan malam atau antara musim panas dengan musim dingin sangat besar. Air tanah di daerah gurun sangat dalam letaknya, sehingga hanya tumbuh-tumbuhan yang tahan kering saja yang dapat tumbuh, seperti jenis cactus berduri. Di daerah yang air tanahnya tidak terlalu dalam tumbuhlah kurma dan sebagainya. Inilah yang dinamakan oase (wahah). Sungai Nil bagi Mesir dan bagian Utara Sudan merupakan "oase sungai".

3. *Daerah iklim muson.*

Daerah Guinea Hulu merupakan daerah iklim muson di Afrika. Di daerah ini bertiup angin pasat Timurlaut pada musim dingin (di belahan bumi Utara), yaitu bulan Januari. Angin itu merupakan angin darat yang kering. Bulan-bulan sekitar Januari itulah *musim kemarau* di sana.

Pada musim panas di belahan bumi Utara, Gurun Sahara yang suhunya sangat tinggi saat itu merupakan daerah bertekanan minimum. Demikian rendah tekanan udara di Gurun Sahara itu, sehingga angin pasat Tenggara yang menuju ke khatulistiwa dari belahan bumi Selatan tertarik ke arah Gurun Sahara, melintasi khatulistiwa. Setelah melalui khatulistiwa, angin itu berubah menjadi *angin musim Baratdaya*. Angin ini merupakan angin laut yang kaya akan uap air dan banyak menurunkan hujan di daerah Guinea Hulu. Bulan-bulan sekitar bulan Juli itulah *musim hujan* di sana. Curah hujan di daerah iklim muson ini di atas 100 cm.

4. Daerah iklim subtropika.

Daerah pantai Laut Tengah dan daerah ujung Selatan benua Afrika beriklim subtropika. Daerah pantai Laut Tengah dipengaruhi angin Pasat Timurlaut pada musim panas, Angin itu merupakan angin yang kering. Angin Barat yang bertiup di daerah itu pada musim dingin berasal dari Samudera Atlantik yang kaya akan uap air, sehingga daerah pantai Utara Afrika mulai dari wilayah Magribi (Maroko) sampai Mesir mendapat hujan pada bulan Januari.

Daerah ujung Afrika sebelah Selatan dipengaruhi angin Pasat Tenggara pada musim panas dan menurunkan hujan di pantai Tenggara, tetapi tidak di pantai Baratnya. Sebaliknya, pada musim dingin angin Barat yang bertiup di sana menurunkan hujan di pantai Barat dan tidak di pantai Timur.

Di daerah iklim subtropika inilah bertempat tinggal orang² Eropa yang menetap di benua ini.

Sifat iklim subtropika : musim panas yang kering dan panas, musim dingin yang sejuk (tidak terlalu dingin) dan hujan pada musim dingin.

Pertanyaan dan tugas :

1. Mengapa penguapan di daerah khatulistiwa sangat besar ?
2. Apakah akibat dari penguapan yang besar itu ?
3. Apakah sebabnya iklim subtropika dinamakan juga iklim Mediteran atau iklim Laut Tengah ?
4. Apakah ciri iklim gurun ? Apa pula ciri iklim subtropika ?
5. Apa sebab pantai Afrika Timur mendapat hujan sepanjang tahun ?
6. Dua hal apakah yang menyebabkan terjadinya Gurun Kalahari ?
7. Meskipun mengalir di daerah gurun, sungai Nil tidak pernah kering. Apakah sebabnya ?

Alam tumbuh-tumbuhan dan hewan.

Karena jenis tanaman selalu berhubungan erat dengan iklim, terutama suhu dan curah hujan, maka alam tumbuh-tumbuhan di Afrika sesuai pula dengan iklim di bagian-bagian benua itu.

Di daerah iklim tropika yang hujannya banyak dan suhu rata² tinggi terdapat hutan hujan tropika yang sangat lebat. Di daerah gurun yang kering itu hampir tidak ada tumbuh-tumbuhan : di sana-sini tumbuh jenis tumbuh-tumbuhan yang tidak banyak memerlukan air, seperti cactus dan kurma. Jika air cukup dekat dengan permukaan tanah, terdapatlah kelompok tumbuh-tumbuhan dan orang-orang mungkin membuat sumur untuk memenuhi kebutuhan air. Itulah oase yang kadang-kadang cukup luas, sehingga merupakan sebuah kota.

Di daerah sekitar gurun, biasanya dibatasi daerah padang rumput (stepa). Keadaan ini menunjukkan bahwa daerah itu tidak terlalu kering. Di daerah yang lebih basah lagi, kita jumpai alam tumbuh-tumbuhan sabana. Stepa dan sabana merupakan daerah peternakan yang baik.

Alam hewanpun pada dasarnya sesuai dengan alam tumbuh-tumbuhan dan dengan sendirinya sesuai pula dengan iklim tempat tinggalnya. Stepa dan sabana merupakan tempat yang baik untuk macam-macam binatang liar seperti : zebra, rusa, gajah, badak dan jerapah. Di samping itu hidup pula jenis binatang buas seperti singa, harimau dan hyena. Di hutan-hutan Afrika hidup gorila, chimpanse dan macam-macam serangga yang berbahaya, seperti semut pemakan daging, namanya "marabunta" dan yang lebih berbahaya lagi yaitu lalat tsetse, serangga yang menyebarkan penyakit tidur kepada binatang maupun manusia. Sungai-sungai dihuni kuda Nil dan buaya: buaya Afrika terkenal besar-besar dan panjang-panjang. Gurun Afrika dihuni pula oleh sejenis burung besar, yaitu burung unta (kasuari) dan unta liar.

Bagi daerah pertanian, belalang merupakan pengganggu yang sangat berbahaya, karena sekali datang kelompok belalang itu dapat memusnahkan tumbuh-tumbuhan di daerah itu.

Untuk melindungi hewan-hewan liar dari pada bahaya kepunahan akibat perburuan, diadakan perlindungan bagi hewan² itu (suaka margasatwa). „Taman Kruger" atau „Kruger Park" di Afrika Selatan merupakan satu contoh usaha perlindungan hewan. Suatu daerah yang sesuai dengan alam yang diperlukan hewan-hewan itu ditutup; hewan-hewan liar hidup dengan bebas di sana, para pengunjung memasuki daerah itu untuk melihat-lihat hewan² yang hidup di alam terbuka dengan mengendarai kendaraan husus. Demikianlah kira-kira keadaan di dalam Taman Kruger itu.

Pertanyaan dan tugas :

1. Carilah di majalah² atau surat kabar² gambar binatang Afrika ! Guntinglah dan simpan dalam albummu !
2. Untuk menambah pengetahuan tentang khewan² Afrika, cobalah barang sekall menonton film tentang Afrika, misalnya cerita² Tarzan !
3. Binatang² pemakan rumput dan daun²an hidup di sabana dan stepa. Apakah sebabnya singa juga hidup di sana ?
4. Jenis binatang apakah yang dilindungi di negara kita ?
5. Apakah perbedaan antara binatang² yang hidup di Taman Kruger dengan yang hidup di kebun binatang ?
6. Bagaimanakah usaha pembasmian belalang secara modern dilakukan ?

Penduduk.

Kebanyakan penduduk Afrika berkulit hitam, yaitu orang Negro Afrika. Orang Negro Afrika dapat dibagi atas dua golongan besar, yaitu Negro Bantu dan Negro Sudan-Guinea. Orang Negro Bantu menempati daerah sebelah Selatan khatulistiwa, orang-orang Negro Sudan-Guinea menempati daerah sebelah Utara khatulistiwa sampai ke bagian Selatan gurun Sahara.



Seorang Negro Sudan



Seorang Negro Bantu

Gambar 1. Dua golongan penduduk Negro.

Bagian Utara benua ini ditempati penduduk yang tergolong orang Hamit, yaitu keturunan orang kulit putih (Kaukasoid) dengan orang Semit (Arab). Golongan ini kebanyakan memeluk agama Islam.

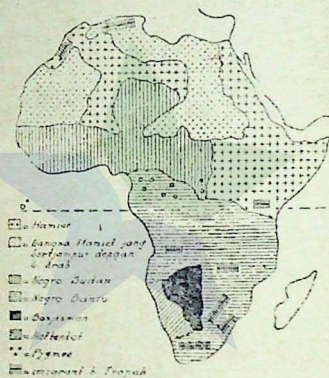
Di daerah pedalaman dan pantai Barat sebelah Selatan khatulistiwa terdapat golongan penduduk yang berperawakan kecil, yaitu orang Pygmae (Negro kerdil) di daerah aliran sungai Congo, orang Hötentot dan Bushmen di pedalaman Afrika Baratdaya. Sebenarnya ketiga golongan penduduk inilah penduduk asli Afrika. Mereka ini mula-mula terdesak oleh orang Negro ke daerah pedalaman yang kurang baik, kemudian terdesak lagi oleh orang kulit putih yang menguasai daerah yang baik bagi mereka.

Orang kulit putih yang jumlahnya hanya 4 juta terutama menempati daerah yang beriklim subtropika, yaitu Afrika Selatan dan bagian Baratlaut benua ini. Lebih dari $\frac{1}{2}$ jumlah penduduk kulit putih tinggal di wilayah Uni Afrika Selatan, terutama terdiri atas orang Inggris dan Belanda (Boer). Di pulau Madagaskar (Malagasi) terdapat orang Melayu Hova, yaitu keturunan orang Melayu yang

datang ke sana sebagai pedagang dan pelaut dan kemudian menetap di sana.

Orang Negro Amerika adalah keturunan orang Negro Afrika yang pada abad ke 18 diburu dan ditangkap orang kulit putih lalu dibawa ke Amerika sebagai „budak“, untuk dipekerjakan di perkebunan -perkebunan. Peristiwa inilah yang menyebabkan timbulnya diskriminasi kulit pada orang kulit putih terhadap orang Negro.

Jumlah penduduk Afrika kira-kira 210 juta, tersebar di seluruh wilayah benua itu yang luasnya kira-kira 30 juta km². Tentu saja, kepadatan penduduk di berbagai daerah benua itu tidak sama, misalnya daerah gurun pada umumnya tidak ditempati penduduk yang menetap, demikian pula di hutan-hutan yang lebat.



Peta III. Golongan2 penduduk di Afrika.

Pertanyaan dan tugas :

1. Hitunglah, berapa kepadatan penduduk rata2 di benua Afrika ?
2. Sebutlah dua golongan besar orang Negro !
3. Di mana tempat asal orang Hamit ?
4. Perhatikanlah penyebaran golongan2 penduduk Afrika pada Peta III !
Golongan mana yang menempati daerah gurun Kalahari ?
5. Apa sebab tiga golongan penduduk asli Afrika hidup di pedalaman yang keadaannya kurang baik ?

6. Di
7. Or
8. Ap
9. Ap
10. Un

Sejarah

Sa

jah ne
berkua
dan It

B

lum di

putih

yaitu

dan S

ngo. L

tai Ti

S

pendu

yang

dan p

ada y

daerah

yang

hadap

annya

N

Ethiop

dan M

negar

kiskar

ll mer

nomor

itu, ib

merde

S

penja

6. Di daerah manakah orang kulit putih bertempat tinggal ? Apakah sebabnya mereka memilih daerah itu ?
7. Orang Eropa manakah yang menetap di Afrika ?
8. Apa sebab di pulau Madagaskar terdapat orang Melayu ?
9. Apakah hubungan antara orang Negro Amerika dengan Negro Afrika ?
10. Untuk mengetahui bagaimana nasib orang Negro dalam abad ke 18, bacalah buku "Gubuk Paman Tom" (Uncle Tom's Cabin).

Sejarah perkembangan Negara-negara di Afrika.

Sampai Perang Dunia II hampir semua daerah di Afrika dijajah negara-negara Eropa. Pada masa itu negara-negara Eropa yang berkuasa di sana yaitu Inggris, Spanyol, Portugal, Belgia, Perancis dan Italia.

Bagian pedalaman Afrika sampai abad ke 19 sebagian besar belum dikenal, karena lebatnya hutan-hutan di benua itu. Orang kulit putih yang terkenal karena penyelidikannya di pedalaman Afrika, yaitu Livingstone seorang-orang Inggris penyebar agama Kristen dan Stanley seorang orang Amerika yang menyelidiki daerah Congo. Livingstone menjelajah benua Afrika bagian Selatan dari pantai Timur sampai ke pantai Barat.

Setelah Perang Dunia II, bangkitlah perasaan kebangsaan pada penduduk Afrika, seperti yang terjadi pada negara-negara terjajah yang lain. Mereka menuntut kemerdekaan bagi daerahnya masing-masing dan pemerintahan oleh bangsanya sendiri. Negara-negara penjajah ada yang rela menyerahkan daerah jajahannya itu kepada penduduk daerah itu sesuai dengan tuntutan mereka. Akan tetapi ada pula yang menyerahkan kedaulatan daerah jajahannya itu setelah menghadapi penduduk daerah tersebut yang memperjuangkan kemerdekaannya dengan kekerasan senjata.

Negara-negara yang telah merdeka sebelum PD. II, yaitu Ethiopia (asalnya kerajaan Abessinia), Liberia (sejak tahun 1847) dan Mesir.

Sekarang sebagian benua Afrika merupakan wilayah negara-negara yang sudah merdeka; Perhatikanlah Peta IV ! Peta ini melukiskan negara-negara merdeka pada awal tahun 1971. Tabel I dan II merupakan keterangan Peta IV, berisi nomor yang sesuai dengan nomor yang tercetak pada peta, nama-nama negara, status negara itu, ibu kota negara itu masing-masing dan tahun negara itu mulai merdeka/negara-negara yang berkuasa di daerah itu.

Sampai tahun 1971 di benua itu masih berkuasa negara-negara penjajah Portugal, Spanyol dan Inggris.

Uni Afrika Selatan juga sebuah negara serikat yang merdeka. Akan tetapi negara ini bukanlah negara penduduk asli Afrika, melainkan negara bangsa kulit putih. Negara ini merupakan anggota Commonwealth Inggeris.

Sumber kehidupan penduduk.

Pertanian.

Daerah sepanjang pantai laut Tengah merupakan daerah pertanian yang telah berlangsung sejak zaman dahulu. Hasilnya terutama buah-buahan daerah iklim subtropika yang biasa dinamakan buah-buahan Selatan, seperti zaitun (olive) dan kurma; serta bahan makanan seperti gandum dan jelai.


Daerah yang banyak mendapat hujan, yaitu sebelah Selatan gurun Sahara, merupakan daerah sabana. Pertanian di daerah ini menghasilkan jagung, di daerah yang agak tinggi kacang dan di lembah-lembah sungai padi. Di beberapa tempat ditanam juga tembakau dan kapas.

Daerah tropika sebelah Selatan khatulistiwa yang seharusnya merupakan daerah pertanian campuran dengan peternakan yang baik, ternyata hal itu tidak dapat dilaksanakan, karena daerah ini merupakan daerah penyebaran lalat tsetse yang berbahaya bagi peternakan. Oleh karena itu daerah ini hanya dijadikan daerah pertanian yang menghasilkan umbi-umbian (seperti ketela pohon), nenas, kelapa sawit dan coklat.

Daerah pantai Barat Afrika dan daerah Afrika Tengah di antaranya Ghana dan Nigeria merupakan daerah perkebunan coklat dan kelapa sawit. Kedua hasil perkebunan ini merupakan bahan ekspor dari Afrika yang jumlahnya tidak sedikit. Perkebunan kelapa sawit yang luas juga terdapat di daerah Zaire. Perkebunan karet (hevea) terdapat di daerah Liberia, yaitu milik Firestone Company, sebuah perusahaan ban Amerika. Perkebunan sisal terdapat di daerah Afrika Timur, terutama Tanzania. Malawi dan Kenya merupakan penghasil teh. Negara-negara daerah khatulistiwa menghasilkan kopi; pada tahun 1952 Afrika menghasilkan 15% dari hasil kopi dunia. Kapas diusahakan di daerah Uganda, Sudan, Zaire, Congo Brazza, Nigeria dan Tanzania. Kacang tanah dihasilkan di daerah Congo Brazza, Nigeria dan Camerun.

Peternakan.

Sapi, biri-biri dan kambing merupakan binatang ternak yang ditenak di sebagian besar daerah benua ini. Para petani di samping mengolah tanah dan tanaman menyelenggarakan peternakan pula.



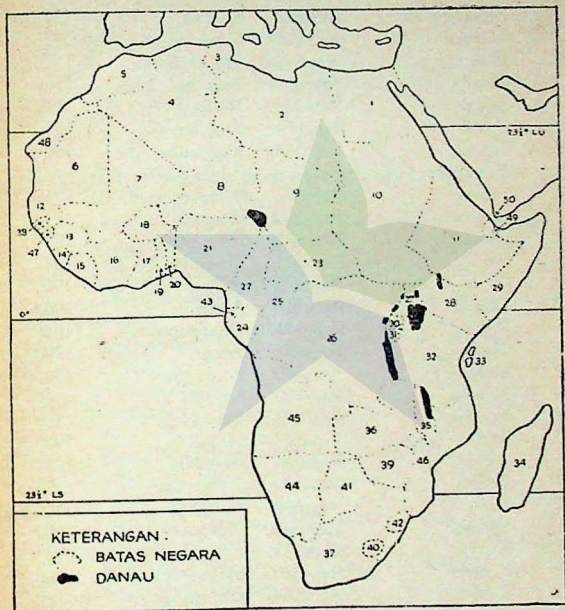
erdeka.
ka, me-
nggota

ah per-
ya teru-
amakan
a bahan

ah Se-
daerah
dan di
ga tem-

arusnya
ang ba-
ini me-
gi peter-
 pertanian
nas, ke-

h di an-
n coklat
han eks-
n kelapa
an karet
ompany,
t di dae-
merupa-
menghasil-
hasil kopi
e, Congo
li daeran



Peta IV. Negara2 di benua Afrika.

Keterangan mengenai nomor2 pada peta ini terdapat pada tabel I dan II.

nak yang
samping
n pula.

TABEL I. DAFTAR NEGARA2 YANG TELAH MERDEKA PADA AWAL TAHUN 1971

No. Urut *)	Nama Negara	Status	Ibukota	Tahun negara itu merdeka
1.	Mesir	Republik	Cairo	1922
2.	Libia	Kerajaan	Tripoli	1951
3.	Tunisia	Republik	Tunis	1956
4.	Aljazair	Republik	Aljazair	1957
5.	Maroko	Kerajaan	Rabat	1956
6.	Mauritania	Republik	Nouakchott	1960
7.	M a l i	Republik	Bamako	1960
8.	Niger	Republik	Niamey	1960
9.	C h a d	Republik	Fort lamy	1960
10.	Sudan	Republik	Khartoum	1954
11.	Ethiopia	Kerajaan	Addis Abeba	...
12.	Senegal	Republik	Dacar	1960
13.	Guinea	Republik	Conakry	1958
14.	Sierra Leone	Republik	Freetown	1961
15.	Liberia	Republik	Monrovia	1847
16.	Pantai Gading	Republik	Abijan	1960
17.	Ghana	Republik	Accra	1960
18.	Volta	Republik	Quagadougou	1960
19.	Togo	Republik	Lome	1960
20.	Dahomey	Republik	Porto Novo	1960
21.	Nigeria	Republik	Lagos	1960
22.	Kamerun	Republik	Yaounde	1960
23.	Afrika Tengah	Republik	Bangui	1960
24.	Gabon	Republik	Libreville	1960
25.	Congo	Republik	Brazzaville	1960
26.	Zaire	Republik	Kinshasa	1960
27.	Uganda	Republik	Entebbe	1962
28.	Kenya	Republik	Nairobi	1963
29.	Somalia	Republik	Mogadishu	1960
30.	Ruanda	Kerajaan	Usumbura	1960
31.	Burundi (Urundi)	Republik	Kigali	1960
32.	Tangayika) Tanza	Republik	Dar es Salam	1961)
33.	Zanzibar) nia	Republik	Zanzibar	1963)

34.	Malagasi	Republik	Tananarive	1960
35.	Malawi	Republik	Zomba	1964
36.	Zambia	Republik	Lusaka	1964
37.	Uni Afrika Selatan	Republik	Pretoria	1910
38.	Gambia	Republik	Bathurst	1965
39.	Rhodesia	Republik	Salisbury	1965
40.	Lesotho (Basuto)	Republik	Maseru	1966
41.	Botswana (Bechuana)	Republik	Mafeking	1966
42.	Zwazia	Republik	Mbabane	1968
43.	Guinea Equatorial	Republik	Rio Muni	1968

(*) Nomor urut pada tabel ini sesuai dengan nomor2 pada Peta IV !

TABEL II. DAFTAR NEGARA2 YANG SAMPAI TAHUN 1970
BELUM MERDEKA

No. Urut *)	Nama Negara	Negara penjajah
44.	Afrika Baratdaya	Uni Afrika Selatan
45.	Angola	Portugal
46.	Mozambique	Portugal
47.	Guinea	Portugal
48.	Sahara (Rio de Oro)	Spanyol
49.	Somalia	Prancis
50.	Pulau Perim	Inggeris
51.	Pulau St. Helena	Inggeris
52.	Kepulauan Madeira	Portugal
53.	Kepulauan Canari	Spanyol
54.	Kepulauan Tanjung Verde	Portugal
55.	Kepulauan Comoro	Prancis
56.	Kepulauan Reunion	Prancis
57.	Kepulauan Mauritius	Inggeris
58.	Seychelles	Inggeris

(*) Nomor urut 44 s/d 50 sesuai dengan nomor2 pada peta IV !

Daerah gurun yang kering, hutan tropika yang sangat lebat dan daerah sabana yang pohon-pohonnya tinggi dapat dikatakan merupakan daerah yang tidak dipergunakan untuk peternakan, jika ada juga jarang sekali.

Daerah padang rumput yang luas antara daerah hutan tropika dengan gurun, demikian pula daerah padang rumput pegunungan di Afrika Tengah dan Afrika Selatan, merupakan daerah peternakan sapi. Daerah peternakan biri-biri, kambing dan unta terletak di padang rumput yang lebih dekat lagi ke daerah gurun. Peternak kambing, biri-biri dan unta itu merupakan peternak yang lebih nomad pula.

Di Afrika Selatan, diusahakan peternakan sapi secara intensip oleh peternak berkulit putih. Hasilnya dapat diekspor ke Eropa.

Pertambangan.

Benua Afrika merupakan benua yang cukup kaya akan mineral berharga, di antaranya : intan, emas, platina, fosfat, besi dan uranium. Tabel III menunjukkan barang-barang tambang yang penting di Afrika dengan daerah tempat barang-barang tambang itu dihasilkan.

Ternyata ada di antara daerah-daerah itu yang mempunyai persediaan lebih dari satu macam barang tambang dan dalam jumlah yang besar pula. Daerah-daerah seperti itu yaitu : Zaire, Zambia, Uni Afrika Selatan, Guinea dan Afrika Baratlaut.

Dalam hal bahan bakar, Afrika sangat miskin. Hanya sedikit persediaan batubara terdapat di bagian Selatan dan Baratlaut benua ini ditambah minyak bumi di Libia. Kekurangan ini sebenarnya dapat banyak ditolong dengan pembangunan pembangkit tenaga listrik, tetapi hal ini belum banyak direalisasikan.

TABEL III. BARANG TAMBANG YANG PENTING DI BENUA AFRIKA.

Macam barang tambang	Daerahnya
1. Intan	Zaire, Afrika Selatan, Ghana
2. Emas	Afrika Selatan, Ghana, Rhodesia
3. Platina	Afrika Selatan
4. Mangan	Ghana, Maroko, Afrika Selatan
5. Chrom	Afrika Selatan, Rhodesia
6. Kobalt	Zaire, Rhodesia, Maroko

7. Te
8. Ti
9. Fo
10. Ur
11. Bij
12. Ba
13. M

Pertany

1. Bil
2. Da
3. Ne
- Car
4. Ne
- kot
5. Ap
- dek
6. Te
- Jel
7. Ap
- Jel
8. Ne
- tan
9. Bel
- a.
- b.
- c.
- d.
- Ca
10. Ap

M E S

Kenda
S
dari g
Semen
rupak

7. Tembaga	Zambia, Zaire, Afrika Selatan
8. Timah putih	Zaire, Nigeria, Afrika Selatan
9. Fosfat	Maroko, Tunisia, Aljazair
10. Uranium	Afrika Selatan, Zaire
11. Bijih besi	Aljazair, Maroko Timur, Siera Leone, Afrika Selatan, Tunisia
12. Batubara	Afrika Selatan, Rhodesia, Nigeria, Maroko.
13. Minyak bumi	Libia

Pertanyaan dan tugas.

1. Bilakah benua Afrika mulai dijelajahi orang Eropa ?
2. Daerah manakah yang dijelajah oleh Stanley dan Livingstone ?
3. Negara manakah yang telah merdeka sebelum Perang Dunia II ? Carilah ibu-kota negara itu di peta ?
4. Negara mana yang termuda pada tabel I ? Lihat letaknya serta ibukotanya di peta ?
5. Apakah perbedaan antara Uni Afrika Selatan dengan negara2 merdeka yang lain di Afrika ?
6. Tempat pertanian dan peternakan di Afrika sangat dipengaruhi iklim. Jelaskan pula jawabanmu itu !
7. Apakah penempatan daerah pertambangan juga terpengaruh iklim ? Jelaskan pula jawabanmu itu !
8. Negara manakah yang memiliki lebih dari satu jenis barang tambang ? Barang tambang apakah ?
9. Beberapa nama negara baru di Afrika :
 - a. Malawi, dulu Nyasa
 - b. Zambia, dulu Rhodesia Utara
 - c. Zaire, dulu Congo Leopoldville (Belgia)
 - d. Lesotho, dulu Basuto
 Carilah letak negara2 itu di peta !
10. Apakah yang kaudengar tentang penggabungan Mesir dengan Libia ?

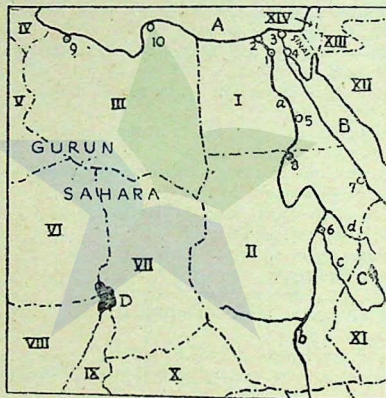
M E S I R

Kadaan alam.

Sebagian besar daerah Mesir merupakan gurun, yaitu lanjutan dari gurun Libia dan gurun Sahara di sebelah Barat negara itu. Semenanjung Sinai yang merupakan bagian Timur negara itu merupakan gurun pula, yaitu gurun Sinai. Terusan Suez yang dibuat

oleh Ferdinand de Lesseps pada tahun 1869 menghubungkan laut Merah dengan laut Tengah di bagian Barat gurun Sinai. Sungai Nil mengalir di bagian Timur wilayah negara ini. Sungai itu merupakan sumber kehidupan bagi penduduk Mesir, karena lembahnya sangat subur.

Sungai Nil mengangkut lumpur subur dari hulunya. Lumpur itu kemudian mengendap di bagian hilir, yaitu di wilayah Mesir. Sejak zaman Mesir kuno, sungai Nil banjir pada bulan-bulan sesudah musim panas tiap tahun. Tiap-tiap banjir terjadi, terendapkanlah lumpur subur di lembah-lembahnya. Dengan demikian lembah sungai Nil tetap subur. Oleh karena itu, daerah lembah sungai itu sangat padat penduduknya. Tepat sekali jika sungai Nil diberi julukan "Sungai Karunia".



Peta V. Mesir dan sekitarnya.


- I, II, III dst. — negara2 apakah itu ?
 1, 2, 3 dst. — kota2 apakah ?
 a, b, c, d — sungai2 apakah ?
 A, B, C, D — laut2 dan danau2 apakah ?

Bagian hulu sungai Nil terjadi dari sungai Nil Putih yang bersumber danau Victoria dan sungai Nil Biru yang bersumber danau Tana di dataran tinggi Abessinia (Ethiopia). Untuk mengendalikan air sungai Nil, pemerintah Mesir telah membangun bendungan².

an laut
Sungai
meru-
bahnya

pur itu
Sejak
esudah
kanlah
sungai
sangat
ulukan

yang paling terkenal di antaranya terletak di kota Assuan, dinamakan juga bendungan Assuan. Bendungan itu mengalirkan air dari sungai Nil ke daerah yang tandus. Karenanya daerah pertanian di negara itu diperluas.



Gambar 2. Setahun sekali sungai Nil meluap dan menggenangi daerah sepanjang pinggirnya, yang dengan demikian menjadi subur.

P e n d u d u k .

Luas Mesir kira-kira 994.000 km². Penduduknya kira-kira 27.430.000 orang. Berapa kerapatan penduduk rata-rata di seluruh negara itu ? Sebagian besar wilayahnya hampir tak berpenduduk atau jarang sekali, karena sebagian besar penduduknya terkumpul di lembah sungai Nil. Dapat dibayangkan, betapa besar kepadatan penduduk di daerah lembah sepanjang sungai Nil itu.

ng ber-
danau
endali-
ngan²,

Penduduk Mesir pada umumnya berbahasa Arab. Hal ini disebabkan pengaruh bangsa Arab pada zaman penyebaran agama Islam. Oleh karena itu pula sebagian besar penduduk Mesir beragama Islam. Mereka itu termasuk golongan orang Hamit. Orang Islam yang tinggal di desa yaitu petani-petani biasa disebut orang Fellah. Terdapat pula orang Mesir yang beragama Kristen; mereka ini disebut orang Kopta, banyaknya kira-kira 8% dari seluruh penduduk Mesir.

Sejak zaman pra-sejarah, tingkat peradaban bangsa Mesir telah tinggi. Di bawah kekuasaan raja-raja Mesir yang biasa dinamakan Fir'aun atau Pharao, rakyat Mesir mendirikan pyramid-pyramid yaitu makam-makam Fir'aun. Sebagai penjaga pyramid itu didirikannya pula sphink, yaitu patung berbadan singa dan berkepala manusia. Untuk memuja dewa Matahari, mereka mendirikan sejenis tonggak bertulisan huruf paku (Hieroglief) yang dinamakan obelisk. Pyramid yang terkenal besar dan tinggi yaitu pyramid "Cheops". Di dalam pyramid itu mayat-mayat Fir'aun yang telah dibalsem disimpan. Mayat yang telah dibalsem itu disebut mumi.

Waktu para ahli purbakala mengadakan penggalian, mereka menemukan mumi itu dalam keadaan utuh dengan segala harta benda yang turut dikubur di dalam pyramid-pyramid itu.

Pada zaman penyebaran agama Islam, Mesir diperintah oleh khalifah-khalifah turunan Nabi Muhammad saw. Pemerintah negara Mesir pada masa itu berbentuk kerajaan. Sejak pembukaan Terusan Suez, kerajaan Inggris mempunyai pengaruh yang besar atas kerajaan Mesir. Raja Mesir yang terakhir yaitu raja Farouk telah dimakzulkan oleh rakyat Mesir di bawah Jenderal Najib pada tahun 1952. Sejak itu Mesir menjadi sebuah republik. Pernah Mesir bergabung dengan beberapa negara Arab yang lain dan negara-negara gabungan itu dinamakan RPA. (Republik Persatuan Arab), tetapi kemudian gabungan itu pecah.

Pertanyaan dan tugas.

1. Mash ingatkah kamu, bagaimana terjadinya ^{wahab} ? Mengertikah kamu mengapa Mesir dinamakan sebuah „Wahab sungai” ?
2. Binatang2 apakah yang terkenal hidup di sungai Nil ?
3. Sejak zaman Fir'aun lembah sungai Nil itu terkenal kesuburannya yang terus menerus. Apakah sebabnya ?
4. Dam apakah yang terkenal di sungai Nil ?
5. Kesultanan apakah yang ditimbulkan akibat banyaknya lumpur di bendungan sungai Nil itu ?
6. Di samping keuntungan yang didapat dari bendungan itu ada pula yang mungkin di anggap sebagai kerugian. Apakah itu ?

7. Mengapa sungai Nil banjir segera setelah musim panas ? (Ingat akan hujan zenithal)
8. Sebutkan sumber2 air sungai Nil itu ! Bagaimana sifat aliran kedua sungai itu (Baca Ethiopia) !
9. Dekat kota apakah kedua sungai Nil itu bertemu ? Di wilayah Mesirakah letak kota itu ?
10. Mengapa Mesir harus bersahabat dengan Sudan ?
11. Apakah yang dapat kauterangkan tentang orang2 Kopta dan Fellah ?
12. Apakah pyramid, mummi, sphink dan obelisk itu ?
13. Carilah gambar2 bangunan bersejarah di Mesir itu pada majalah2 untuk ditempelkan dalam album geografi !
14. Siapa raja Mesir yang terakhir ? Siapa pula presidennya yang pertama ?

Mata Pencaharian.

Pertanian.

Meskipun daerah Mesir sebagian besar terdiri atas gurun, tetapi mata pencaharian utama penduduknya pertanian. Pertanian diselenggarakan di lembah sungai Nil. Tanah milik petani di lembah sungai Nil ini kebanyakan sempit, karena penduduknya yang padat. Lebih buruk lagi keadaan petani itu pada zaman pemerintahan raja-raja Mesir, karena pada zaman itu terdapat golongan pemilik tanah luas, yaitu tuan tanah. Pemerintah Mesir telah mengadakan perbaikan dalam hal ini dengan mengadakan landreform, sehingga petani-petani kecil memiliki tanah sendiri.

Hasil pertanian yang terpenting dari Mesir yaitu kapas yang merupakan barang ekspor. Hasil lainnya yaitu gandum, beras, jagung, tebu dan buah-buahan.


Pertambangan.

Mesir kurang sekali memiliki persediaan barang tambang. Yang dianggap agak banyak, yaitu persediaan bijih besi di daerah Assuan dan minyak bumi di daerah Terusan Suez. Dalam jumlah yang tidak menguntungkan terdapat juga fosfat, mangan dan emas.

Industri.

Perkembangan industri Mesir tidak pesat, karena Mesir tidak memiliki bahan bakar dan sedikit sekali bahan baku di dalam negeri. Yang mendorong perkembangan industri di sana yaitu bertambah banyaknya tenaga listrik yang dihasilkan di bendungan sungai Nil

Industri yang terpenting yaitu tekstil. Industri besi terdapat di dekat Cairo. Di Iskandariah (Alexandria) terdapat pabrik sigaret yang bahan baku tembakaunya diimpor dari Turki.



Gambar. 3. Mesir termasuk negara yang paling banyak menghasilkan kapas

Kota-kota.

1. *Cairo*, ibu kota Republik Mesir. Kota ini terletak di ujung delta sungai Nil sebelah Selatan. Di kota ini terdapat universitas Islam yang tertua dan termasyhur, yaitu Al Azhar.
2. *Iskandariah*, kota pelabuhan yang terbesar di Mesir, terletak di delta sungai Nil di pantai laut Tengah. Pelabuhan ini merupakan tempat kapal mengisi bahan bakar.
3. *Assuan*, merupakan kota besar di pedalaman. Bendungan sungai Nil yang dibangun di kota ini merupakan tempat pembangkitan tenaga listrik dan tempat air sungai Nil dibagi ke dalam saluran-saluran irigasi yang sangat berguna bagi perluasan daerah pertanian.
4. *Suez*, yaitu sebuah kota di ujung Selatan terusan Suez.
5. *Port Said*, yaitu kota pelabuhan di ujung terusan Suez sebelah Utara di pantai laut Tengah.

dapat di
sigaret



enghasil-

ng delta
sitas Is-

letak di
i meru-

gan su-
mbang-
e dalam
an dae-

sebelah

Terusan Suez.

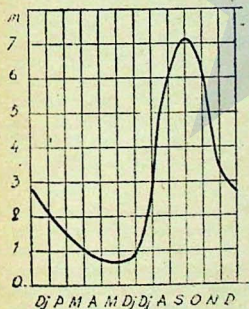
Terusan Suez dibuat oleh Ferdinand de Lesseps, seorang ahli teknik pembuat terusan yang terkenal, berkebangsaan Perancis. Terusan itu dibuka pada tahun 1869. Sejak pembukaannya, sebagian besar saham terusan itu menjadi milik Inggris, oleh karena itu terusan Suez serta daerah sempit di kiri-kanan terusan itu tidak merupakan daerah kekuasaan pemerintah Mesir pada masa itu.

Kebaikan terusan Suez, yaitu permukaan airnya setinggi permukaan air laut, sehingga kapal-kapal yang melalui terusan itu tidak usah melalui pintu air seperti di terusan Panama (Amerika Tengah). Ketika terusan itu dipergunakan, jumlah kapal yang melalui terusan Suez 2 kali lebih banyak dari pada jumlah kapal yang melalui terusan Panama.

Dalam masa pemerintahan presiden Nasser (presiden yang kedua), terusan Suez dinasionalisasikan. Dengan demikian timbulah pertikaian terusan Suez dalam tahun 1957 antara Mesir disatu pihak dengan Inggris, Perancis dan Israel di pihak lain.

Setelah P.B.B. turun tangan, akhirnya terusan Suez dinyatakan menjadi milik pemerintah Mesir. Dalam usaha memulihkan keamanan di daerah terusan Suez, tentara Indonesia juga turut memberikan jasanya sebagai pasukan PBB.

Untuk beberapa waktu, terusan itu dapat dipergunakan lagi untuk lalu lintas. Akan tetapi kemudian terhenti lagi akibat pecahnya



Gambar 4. Grafik banyak air sungai Nil di Cairo.

peperangan antara Mesir dengan Israel. Tentara Israel menguasai daerah Semenanjung Sinai sampai ke tepi terusan Suez sebelah Timur. Sampai tahun 1972, terusan itu masih ditutup.

Pertanyaan dan tugas.

1. Mesir merupakan negara agraris. Apakah maksudnya ?
2. Apakah sebabnya tanah milik petani Mesir sempit ?
3. Hasil pertanian apakah yang merupakan bahan ekspor Mesir ?
4. Hasil pertambangan apakah yang mendorong perindustrian Mesir ?
Di mana daerah pertambangannya ?
5. Masih ingatkah kamu, daerah apakah penghasil tembakau di Turki ?
6. Untuk apakah pemuda² Indonesia banyak yang pergi ke Cairo ?
7. Apakah kebaikan terusan Suez ?

Negara-negara sekitar Mesir.

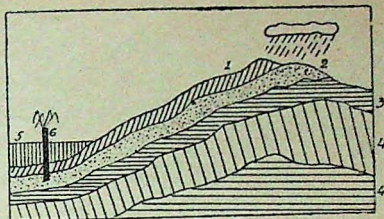
Gurun Sahara.

Luas Gurun Sahara kira-kira 4 kali luas Indonesia. Iklimnya sangat kering, karena gurun itu terletak di bayangan hujan dari pegunungan Atlas, maupun dari pegunungan Guinea Hulu dan terletak di daerah udara yang turun. Hujan di situ turun sangat jarang, kadang-kadang dalam waktu 3 tahun hanya turun hujan satu kali, tetapi hujannya sangat lebat. Pada waktu itulah wadi-wadi berair. Akan tetapi genangan air itu tidak lama, karena setelah hujan itu reda, wadi-wadi itu kering kembali, airnya meresap dan menguap.

Air tanah di gurun-gurun terletak sangat dalam di bawah permukaan tanah, sehingga di daerah yang luas tidak tumbuh tumbuh-tumbuhan berusia panjang. Di daerah yang air tanahnya dekat ke permukaan tanah, sehingga akar tumbuh-tumbuhan yang panjang dapat mencapainya, tumbuhlah tumbuh-tumbuhan semacam kurma. Daerah seperti itu dinamakan oase atau wahah. Wahah merupakan tempat perhentian kafilah setelah mengarungi gurun yang sangat panas dan kering itu. Di situlah kafilah menambah persediaan airnya. Wahah itulah yang kemudian berkembang menjadi perkampungan-perkampungan, karena ada sumber air itu. Bukanlah air itu merupakan unsur mutlak bagi kehidupan manusia, binatang dan tumbuh-tumbuhan ?

Kadang-kadang air tanah itu keluar memancar, jika orang menggali sumur. Sumur seperti itu dinamakan sumur arthesis atau sumber arthesis. Air hujan yang jatuh di pegunungan Atlas dan Guinea Hulu meresap ke dalam lapisan yang berpori (gembur) yang terletak di antara lapisan-lapisan yang pejal (tidak melalukan air). Air yang meresap ke dalam lapisan gembur seperti itu memungkinkan terjadinya sumber arthesis di daerah yang lebih rendah.

Dahulu hampir seluruh Gurun Sahara dikuasai oleh Perancis. Pada masa itu gurun-gurun merupakan rintangan bagi lalu lintas di



Gambar 5. Sumber artesis banyak terdapat di bagian Utara Gurun Sahara.


- | | |
|---------------------|--------------------|
| 1 — lapisan pejal | 4 — lapisan tanah |
| 2 — lapisan berpori | 5 — tanah endapan |
| 3 — lapisan pejal | 6 — sumber artesis |

daerah itu. Alat pengangkut yang baik yaitu unta, binatang yang sangat kuat menahan haus, karenanya binatang itu diberi julukan "kapal lautan pasir". Perkembangan lalu lintas modern menyebabkan gurun bukan rintangan lagi. Kapal terbang dan mobil menghubungkan tempat-tempat yang dipisahkan gurun Sahara. Pada masa pemerintahannya, Perancis pernah menggunakan Gurun Sahara sebagai tempat percobaan bom atom, seperti Amerika Serikat menggunakan gurun Nevada.

Negara-negara yang menguasai gurun Sahara dewasa ini, yaitu Libia, Mauritania, Mali, Niger, Chad dan Aljazair.

Penduduk daerah Gurun Sahara bagian Utara kebanyakan orang Hamit dan golongan campuran Hamit dengan Arab. Di bagian Selatan ditambah lagi oleh orang Negro Sudan dan Guinea. Orang Hamit yang bertempat tinggal di daerah stepa dan gurun disebut orang Tuareg, merupakan penduduk yang nomad sambil menggembalakan ternaknya. Di sebelah Timur daerah orang Tuareg itu hidup orang Arab yang nomad dan sebagai peternak pula. Di oase-oase tinggal orang Berber sebagai penduduk yang menetap dan bermata pencaharian dari bercocok tanam.

Perdagangan melalui Gurun Sahara dilakukan dengan kafilah-kafilah. Dari bagian Selatan dibawa kafilah itu gading gajah dan hasil daerah tropika. Dari Utara orang-orang itu membawa garam dan kapas. Bahaya yang mengganggu kafilah-kafilah itu dalam perjalanannya yaitu perampok, angin ribut di gurun (samun), tersesat di gurun dan kehabisan air.



Gambar 6. Sebuah kafilah di daerah Gurun Sahara Aljazair.

Perjanyaan dan tugas.

1. Bagaimanakah sifat iklim gurun ?
2. Gurun Sahara terletak di bayangan hujan. Apakah maksudnya ?
3. Terangkan akibat perbedaan suhu yang besar antara siang dengan malam di gurun !
4. Mengapa pohon tamarsik yang tumbuh di tepi gurun berakar sangat panjang ?
5. Bagaimanakah wahah terjadi ? Bagaimana pula sumber artthesis ?
6. Apakah wadi ?
7. Apakah yang dinamakan orang2 nomad ? Golongan penduduk Afrika manakah yang nomad ? Mengapa mereka nomad ?
8. Dari manakah orang Hamit datang ke benua Afrika ? Orang2 Afrika yang manakah termasuk Hamit ?
9. Di gurun seringali terjadi fatamorgana tabukah kamu apa yang dinamakan fatamorgana ? Di mana kamu pernah melihat fatamorgana ?
10. Mengapa perdagangan dengan kafilah sangat mundur ?

SUDAN

Republik Sudan sebelum merdeka merupakan daerah kekuasaan bersama Inggris dan Mesir, disebut Anglo Egyptian Sudan. Setelah Mesir menjadi republik dan Inggris meninggalkan wilayah kekuasaannya di Terusan Suez, Sudan juga menjadi negara merdeka. Ibukotanya Khartoum.

Sudan memiliki bagian hulu aliran sungai Nil sebelum sungai itu memasuki wilayah Mesir. Di wilayah Sudanlah tempat pertemuan sungai Nil Putih dengan sungai Nil Biru, yaitu dekat kota Khartoum. Jika sekiranya Sudan membelokkan aliran sungai Nil itu ke laut Merah, maka Mesir tidak akan mendapat air sama sekali.

Penduduk Sudan kebanyakan orang Negro Sudan. Sebagian dari mereka bercampur dengan orang Arab, sehingga membentuk golongan penduduk baru yang agak berbeda dengan golongan pertama itu. Orang Negro Sudan tidak berapa berbeda dengan orang Negro yang menempati daerah sebelah Barat wilayah Sudan sampai ke Guinea Hulu. Oleh karena itulah, golongan penduduk Negro ini disebut Negro-Sudan-Guinea.

Daerah Sudan beriklim gurun. Karena daerah itu dialiri sungai Nil, tanahnya baik untuk tanaman gandum dan kapas. Sejenis gandum merupakan hasil bumi yang penting untuk bahan makanan penduduk. Kapas merupakan barang ekspor yang penting dari Sudan. Mutu kapas dari Sudan termasuk tinggi, karena seratnya yang panjang-panjang.

Pelabuhan Sudan di pantai laut Merah, yaitu Port Sudan, merupakan pelabuhan yang dipergunakan untuk mengekspor kapas.

Pertanyaan dan tugas :

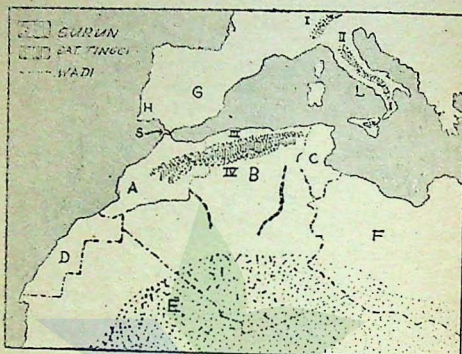
1. Mengertikah kamu, apa sebab Mesir harus bersahabat dengan Sudan ?
2. Negara2 manakah yang berbatasan dengan Sudan ? Lihat peta IV :
3. Danau apakah hulu sungai Nil Putih ? Di wilayah negara manakah letaknya ?
4. Sebelum merdeka Sudan merupakan condominium Inggris dan Mesir. Apakah maksudnya ?

ALJAZAIR dan negara-negara lain di daerah Atlas.

Aljazair merupakan salah satu negara yang terletak di daerah Pegunungan Atlas. Sebagai wilayah Aljazair merupakan bagian dari gurun Atlas. Kecuali Aljazair, negara lain yang terletak di daerah pegunungan Atlas itu yaitu Maroko dan Tunisia.

Kedaaan alam.

Daerah Atlas terdiri atas pegunungan Atlas dan dataran tinggi Barbaria. Bagian pegunungan Atlas yang terletak di sebelah Utara dataran tinggi Barbaria dinamakan Pegunungan Atlas Kecil dan yang di sebelah Selatannya Atlas Sahara.



Peta VI. Daerah Atlas.

- | | |
|---------------------|------------------------|
| A = Maroko | H = Portugal |
| B = Aljazair | L = Italia |
| C = Tunisia | S = Selat jabal Tarik |
| D = Sahara Spanyol | I = Alpen |
| E = Sahara Perancis | II = Peg. Appenina |
| F = Lybia | III = Peg. Atlas Kecil |
| G = Spanyol | IV = Peg. Atlas Besar |

Bagian pedalaman daerah Atlas beriklim darat (gurun) dan daerah pantainya beriklim laut Tengah (subtropika).

Di padang rumput dataran tinggi Barbaria tumbuh rumput halfa yang dijadikan bahan baku untuk membuat kertas.

Sungai-sungai di daerah itu kebanyakan merupakan wadi yang airnya mengalir dan bermuara di danau-danau. Karena danau itu terletak di daerah kering, maka air danau itu makin lama makin asin. Di sebelah Selatan pegunungan Atlas itu terbentang gurun Sahara yang luas.

Penduduk.

Penduduk daerah Atlas kebanyakan terdiri atas orang Berber yang termasuk golongan Hamit. Mereka itu hidup di daerah pegunungan. Orang Berber yang tinggal di daerah Aljazair disebut orang Kabil dan yang tinggal di daerah Maroko dinamakan orang Rif. Mereka itu sebagian besar memeluk agama Islam, terutama yang tinggal di dataran rendah. Bahasa yang dipergunakannya yaitu bahasa Arab.

Di daerah itu terdapat pula orang Moor, yaitu golongan penduduk yang dahulu pernah mendirikan negara Islam di Spanyol, yaitu Granada.

Orang Eropa banyak juga yang bertempat tinggal di daerah Atlas. Orang Spanyol kebanyakan tinggal di Maroko, orang Perancis di Aljazair. Di Tunisia banyak terdapat orang Italia dan Perancis.

Sampai pertengahan abad ke 19, Aljazair merupakan daerah jajahan Perancis. Kemudian daerah itu dianggap sebagai propinsi Perancis. Pejuang nasional Aljazair dengan gigih memperjuangkan kemerdekaan negaranya. Pusat pemerintahan Nasional Aljazair, mula-mula bertempat di Cairo (Mesir). Perancis pada waktu itu tetap mempertahankan kekuasaannya di wilayah Aljazair. Pemerintah Perancis menumpas pejuang-pejuang Aljazair. Sementara itu banyak negara yang mengakui kedaulatan Aljazair, di antaranya Indonesia. Akhirnya Perancis melepaskan wilayah jajahannya itu dan Aljazair merdeka.

Mata pencaharian.

Pertanian.

Daerah pertanian di pegunungan Atlas terutama di daerah yang cukup mendapat hujan, yaitu lereng Utara pegunungan Atlas, dataran pantai yang beriklim laut Tengah dan di wahah-wahah. Di daerah yang kurang air, diusahakan pemboran-pemboran sumber air dan pembuatan waduk-waduk, sehingga daerah yang asalnya tandus menjadi tanah pertanian yang subur. Hasil pertanian di daerah ini, yaitu gandum, sayur-mayur dan buah-buahan Selatan (zaitun dan anggur). Aljazair mengekspor anggur.

Seperti petani-petani di daerah lain, petani Aljazair sangat terikat kepada tanah, sehingga mereka sukar meninggalkan daerahnya, meskipun tanahnya itu tidak menguntungkan.

Peternakan.

Oleh karena sebagian besar daerah Atlas terdiri atas stepa dan sabana, maka dahulu peternakan merupakan mata pencaharian yang terpenting. Pada waktu itu peternak hidup berkelana (nomad) mencari padang rumput yang subur untuk ternaknya. Mereka itu terkenal juga sebagai orang-orang yang suka merampok dan merampas. Yang menjadi sasaran perampokannya itu yaitu petani atau kafilah. Dewasa ini peternakan merupakan mata pencaharian yang kedua setelah pertanian. Binatang yang ditenak terutama unta, biri-biri dan kambing. Maroko terkenal dengan kambingnya. Hasil peternakan dari daerah ini, yaitu wol dan kulit.

Pertambangan.

Seperti telah dibicarakan pada bagian terdahulu, daerah pegunungan Atlas merupakan salah satu daerah Afrika yang kaya akan barang tambang. Di wilayah ketiga negara Atlas itu terdapat persediaan fosfat yang banyak. Di Aljazair dan di bagian Timur Maroko terdapat juga persediaan bijih besi.

Kota-kota.

1. *Aljazair*, merupakan ibu kota republik Aljazair dan sebuah kota pelabuhan yang terbesar. Kota ini banyak dikunjungi wisatawan. Di sana terdapat masjid Jama El Kabir yang termasuk masjid terkenal di Afrika Utara. Selain itu terdapat juga peneropongan bintang.
2. *Constantine*, merupakan kota di daerah pedalaman yang merupakan kota pariwisata pula. Kota ini didirikan pada zaman Romawi.
3. *Oran*, yaitu kota pelabuhan lain di Aljazair.

NEGARA-NEGARA ATLAS YANG LAIN.

M A R O K O

Sampai tahun 1912 Maroko merupakan sebuah kesultanan yang berdaulat. Setelah tahun itu Maroko merupakan daerah jajahan Perancis dan Spanyol. Sultan tidak mempunyai hak memerintah lagi, tetapi boleh tinggal di istananya di kota Fez. Perancis menempatkan perwakilannya di kota Rabat. Pada tahun 1956 kerajaan Maroko merdeka lagi setelah mengadakan perjuangan melawan negar-negara penjajahnya. Ibu kota Maroko yaitu Rabat, merupakan pelabuhan yang ramai pula. Pelabuhan lainnya yang lain yaitu Casablanca. Kota Tanger merupakan kota internasional.

TUNIS

D
yang
merup
terutar
majuka
ranya
Kota I
terken

Pertan

1. Seb
2. Ap
3. Di
4. Alj
5. Isil

Nar

1. Tun
2.
3.
4.

DAER

Kead

D
pantai
anak-a
yang c
dereta
Ik
hutan
S
di sepa
di ant
an sep

TUNISIA

Dahulu Tunisia diperintah seorang Bey (Amir atau Sultan) yang ada di bawah kekuasaan Perancis. Tetapi sekarang Tunisia merupakan sebuah republik. Di Tunisia banyak tinggal orang Eropa, terutama orang Italia dan Perancis. Seperti Aljazair, Tunisia memajukan pertaniannya dengan membangun irigasi modern. Ibu kotanya Tunis yang merupakan pelabuhan yang ramai di laut Tengah. Kota lain yaitu Carthago seperti Tunis merupakan kota tua yang terkenal pada zaman Romawi.

Pertanyaan dan tugas :

1. Sebutkan nama bagian-bagian dari pegunungan Atlas !
2. Apakah sebabnya di daerah dataran tinggi Barbaria terdapat danau2 asin ?
3. Di stepa2 daerah Atlas tumbuh rumput halfa. Untuk apakah rumput itu ? Industri semacam itu menggunakan apakah sebagai bahan baku ?
4. Aljazair mempunyai perbandingan penghasilannya sbb. : Pertanian (81%), peternakan (7%), pertambangan (8%) dan kerajinan tangan (4%-. Melihat perbandingan itu, negara apakah Aljazair ?
5. Isilah daftar di bawah :

Namadaerah	Ibu kota	Status	Pelabuhan penting
1. Tunisia			
2.	Aljazair		
3.		Kerajaan	
4.		Kota Internasional	

DAERAH CONGO

Kedaaan alam.

Dengan daerah Congo di maksudkan daerah khatulistiwa di pantai Barat benua Afrika tempat mengalir sungai Congo dengan anak-anak sungainya. Daerah ini merupakan sebuah ledok besar yang dikelilingi dataran tinggi. Di sebelah Timur ledok itu dibatasi deretan danau-danau patahan.

Iklm di daerah ini sangat lembab, sehingga tanahnya tertutup hutan hujan tropika yang sangat lebat.

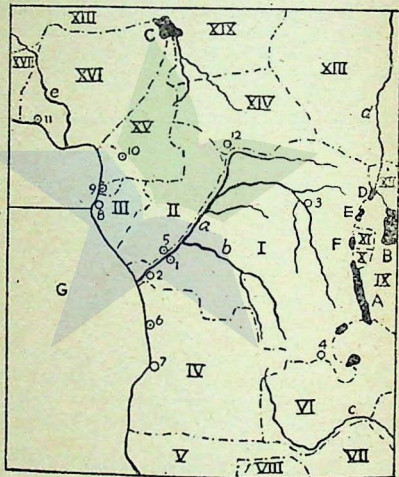
Seperti telah diuraikan pada bagian sungai-sungai di Afrika, di sepanjang aliran sungai Congo itu banyak terdapat jeram dengan di antaranya bagian-bagian sungai yang lebar dan dalam. Keadaan seperti itu menyebabkan lalu lintas di sungai itu terputus-putus.

Di bagian sungai yang tidak dapat dilayari, dipergunakan kereta api untuk menyambung pengangkutan. Ternyata jalan kereta api juga tidak dapat merupakan satu jalur yang tidak terputus-putus, karena di bagian-bagian tertentu, tepi sungai itu tidak mungkin dipasang jalan kereta api karena alamnya yang buruk dan sering mendapat gangguan banjir.

Di daerah ini, sekarang kita mengenal dua negara Congo, yaitu:

1. Republik Zaire dengan ibu kota Kinshasa (dulu : Leopoldville), yaitu bekas Congo jajahan Belgia.
2. Republik Congo dengan ibu kota Brazzaville, bekas jajahan Perancis.

Di sebelah Barat kedua negara ini, di daerah aliran sungai Co-




Peta VII. Daerah aliran sungai Congo.

Tuliskan nama negara2, kota2, sungai2 dan danau2 pada peta ini.

ngo juga terdapat republik Gabon dengan ibu kota Libreville, bekas jajahan Perancis pula.

Penduduk.

Daerah aliran sungai Congo ini ditempati oleh orang Negro Bantu. Di daerah pedalamannya terdapat segolongan penduduk Negro yang berbadan kecil, disebut orang Pygmae. Orang Eropa yang tinggal di sini tidak sebanyak di daerah subtropika. jumlahnya sedikit sekali dibandingkan dengan orang Negro.



Gambar 7. Mahasiswa Congo sedang belajar cari memegang, memindahkan dsb. bahan2 nuklir.

Penduduk Negro banyak yang memeluk agama Katholik Roma, yang disiarkan oleh orang-orang Eropa pada permulaan benua itu didatangi, diantaranya yang cukup terkenal yaitu David Livingstone.

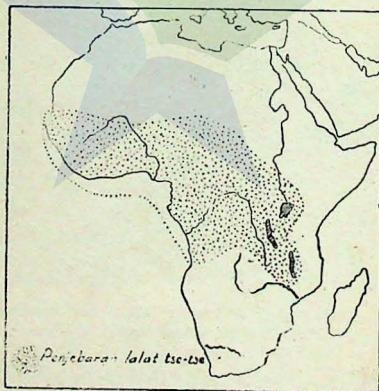
Mata pencaharian.

Pertambangan

Mata pencaharian terpenting di daerah Congo, baik bagi penduduk, baik bagi pemerintahnya, yaitu pertambangan. Daerah Zaire merupakan daerah yang sangat kaya akan bahan galian, yang terpenting yaitu tembaga di daerah Katanga. Dari tembaga nilai ekspor Zaire yang terbesar. Kecuali tembaga, daerah Katanga kaya pula akan timah putih, uranium, kobalt dan seng. Timah putih terdapat pula di daerah Kivu dengan pusatnya Kisangani (dulu Stanleyville). Intan dihasilkan di daerah Kasai. Barang barang tambang itu diekspor ke negara-negara Eropa dan Amerika.

Pertanian

Perkebunan-perkebunan besar yang diselenggarakan secara teratur merupakan bentuk pertanian yang memberikan hasil yang besar sesudah hasil pertambangan di Zaire. Hasilnya yaitu kelapa sawit, kapas, kopi dan karet. Kelapa sawit, kopi dan karet merupakan hasil dari bagian Congo yang berhutan hujan tropika, sedangkan kapas dari bagian yang agak kering, seperti daerah sabana. Dari hutan Congo dihasilkan pula kaju.



Peta VIII. Daerah penyebaran lalat tsetse.

Seperti telah dikemukakan di atas, daerah Congo merupakan daerah yang dikuasai lalat tsetse. Oleh karena itu, di daerah ini peternakan tidak berarti. Lalat tsetse itu bukan hanya pengganggu ternak, tetapi juga pengganggu manusia.

Lalu-lintas.

Perhubungan di daerah Congo terutama dilaksanakan dengan melalui sungai dan jalan kereta api. Hasil pertambangan dari daerah Katanga diangkut melalui sungai dan kereta api melalui Kinshasa ke pelabuhan Matadi untuk diangkut ke luar negeri atau dari kota Lumumbashi (dulu: Elizabethville) di Katanga melalui jalan kereta api di daerah Angola untuk diekspor dari pelabuhan Lobito di wilayah Angola. Kadang-kadang ekspor hasil tambang itu dilakukan melalui pelabuhan Dar es Salam di wilayah Tanzania.

Kota-kota

1. *Kinshasa*. Pada zaman penjajahan Belgia, kota ini bernama Leopoldville. Sekarang Kinshasa merupakan ibu kota republik Zaire. Kota ini merupakan kota pedalaman di tepi sungai Congo sebelah Selatan.
2. *Brazzaville*. Kota ini merupakan ibu kota Congo bekas jajahan Perancis, letaknya di tepi sungai Congo sebelah Utara berhadapan dengan Kinshasa.
3. *Matadi*, yaitu kota pelabuhan yang teramat di daerah Congo. Melalui pelabuhan inilah dari separuh hasil pertambangan daerah Congo diekspor.
4. *Lumumbashi*, merupakan pusat pertambangan daerah Katanga.
5. *Libreville*, ibu kota republik Gabon, sebuah kota pelabuhan pula.

Pertanyaan dan tugas :

1. Lihatlah peta Congo pada atlas. Tulislah nama dua anak sungai itu !
2. Danau apakah yang terdapat di daerah Congo ?
3. Dapatkah kamu terangkan, mengapa jalan kereta api yang menyusur sungai Congo itu terputus-putus ? Terangkanlah !
4. Apakah sebabnya daerah Congo merupakan daerah hutan yang lebat ? Orang Negro manakah yang tinggal di daerah hutan itu ?
5. Bahan galian apakah yang terdapat di daerah Congo ? Tulis daerah bahan galian itu ditambang pada peta buatanmu !
6. Melalui jalan-jalan manakah bahan dari daerah Katanga dibawa ke luar daerah Congo ?
7. Apakah sebabnya, di daerah itu peternakan kurang mendapat perhatian ?
8. Hasil pertanian apakah yang terpenting dari Congo ?

REPUBLIK MALAGASI

dan pulau-pulau di sekitar Afrika yang lain.

Pulau Madagaskar merupakan sebuah pulau yang terbesar di sekitar benua Afrika dan dipisahkan dari daratan Asia oleh sebuah selat, yaitu selat Mozambique. Pulau ini lebih luas dari pada wilayah Perancis yang pernah menjajahnya.

Dewasa ini Madagaskar merupakan negara dengan nama republik Malagasi. Ibu kotanya Tananarive.

Berbeda dengan bagian Afrika daratan, penduduk pulau ini sebagian terdiri atas orang-orang Asia daerah Timur Jauh, seperti orang-orang India, Melayu dan Cina. Mereka itu telah datang ke sana dan menetap di sana. Lebih kemudian dari mereka, datang pula ke pulau itu orang Negro Bantu dari daratan Afrika. Dewasa ini sebagian besar penduduk Malagasi merupakan campuran dari berbagai golongan penduduk itu. Orang Melayu di Malagasi dinamakan Melayu Hova.

Bagian pantai Timur pulau Madagaskar dipengaruhi angin pasat Tenggara yang bertiup dari Samudra Indonesia. Oleh karena itu bagian ini mendapat hujan sepanjang tahun. Di sinilah bertempat tinggal orang Hova. Mereka itu menyelenggarakan pertanian pesawahan di sawah-sawah bertingkat. Padi merupakan hasil utama dari daerah ini dan merupakan makanan pokok penduduk Melayu.

Di bagian pantai Barat pulau ini curah hujan tidak sebanyak di pantai Timur. Di situlah tinggal penduduk Negro Bantu.

Malagasi juga menghasilkan tanaman tropika yang lain, seperti kopi dan tebu.

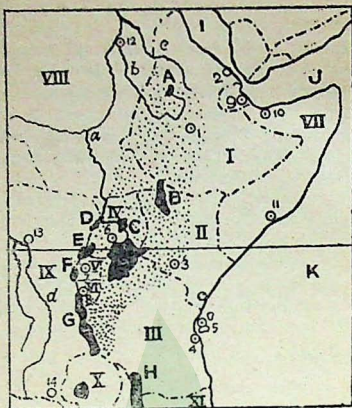
Kotanya yang terbesar yaitu Tananarive ibu kota republik Malagasi. Kota ini terletak di dataran tinggi di tengah-tengah pulau itu pada ketinggian sekitar 1000 m di atas permukaan air laut.

Kota lain yaitu Tamatave, pelabuhan utama di pulau itu, terletak di pantai Timur.

Pulau-pulau lain.

Seperti Malagasi, pulau lain yang telah merdeka di sekitar Afrika itu, yaitu Zanzibar, Republik Zanzibar merdeka pada tahun 1963. Kemudian Zanzibar menggabungkan diri dengan Tanganyika dan dinamakan TANZANIA. Pulau Zanzibar merupakan penghasil cengkih terbanyak di dunia.

Pulau-pulau lain sekitar Afrika dikuasai oleh Portugis, Spanyol dan Inggris. Terutama bangsa Spanyol dan Portugis menguasai pulau tersebut karena merekalah yang pertama kali menemukan pulau-pulau itu ketika mereka mencari jalan laut ke Indonesia.



Peta IX. Dataran tinggi Afrika Timur.

Tulislah :

- | | | | |
|------------|----------|-----------|----------|
| I = | (negara) | 1 = | (kota) |
| II = | | 2 = | |
| dst. | | dst | |
| A = | (danau) | a = | (sungai) |
| B = | | b = | |
| dst. | | dst. | |
| | | I = | (laut) |
| | | J = | |
| | | dst. | |

ETHIOPIA

Keadaan alam.

Wilayah Kekaisaran Ethiopia terletak di dataran tinggi Afrika Timur, suatu dataran tinggi yang meliputi juga wilayah negara-negara Kenya, Uganda, Burundi dan Tanganyika; sebelah Timurnya terletak negara Somali.

D
rah pa
yang b
arah U
tahann
dataran



Peta
danau

U —
Ke —
Ta —
R —
V —

D
nung b
yang te
Meskip
lalu ter
Dana
ini, Kh
inilah s
toria itu
tih sepa
kekerin

Dataran tinggi Afrika Timur sebagian besar merupakan daerah patahan, yaitu patahan yang terbesar di seluruh dunia. Slenk yang besar memanjang dari danau Malawi (Nyasa) menuju ke arah Utara djapit horst di sebelah Barat dan Timurnya. Lereng patahannya di sana sini sangat curam. Danau-danau yang terdapat di dataran tinggi ini kebanyakan terletak pada slenk.



Peta X. Daerah danau-danau di Afrika Timur



----- daerah tanah merosot

- | | | | | |
|----|---------------|----|-------------------|-------------------------|
| U | — Uganda | T | — D. Tanganyika | Peta XI. Daerah Patahan |
| Ke | — Kenya | Ny | — D. Nyassa | Afrika Timur. |
| Ta | — Tanganyika | 1 | — Gn. Kenya | |
| R | — D. Rudolf | 2 | — Gn. Kilimanjaro | |
| V | — D. Victoria | | | |

Di bagian Tenggara dataran tinggi ini terdapat 2 puncak gunung berapi yang tinggi, yaitu Kilimanjaro (6010 meter), gunung yang tertinggi di Afrika dan Kenya (5195 meter).

Meskipun terletak di daerah tropika puncak kedua gunung ini selalu tertutup es.

Danau Victoria merupakan danau yang terbesar di dataran tinggi ini. Khatulistiwa melalui bagian tepi Utara danau itu. Dari danau inilah sungai Nil Putih mengalir. Oleh karena didaerah danau Victoria itu hujan turun sepanjang tahun, maka aliran sungai Nil Putih sepanjang tahun tetap, hampir tidak pernah terjadi banjir atau kekeringan.

Daerah danau Tana di Ethiopia mendapat banyak hujan pada musim panas di belahan bumi Utara, tetapi tidak banyak pada musim dingin. Hal inilah yang menyebabkan perbedaan besar pada aliran sungai Nil Biru. Sifat sungai Nil Biru ini pula yang menyebabkan sungai Nil di wilayah Mesir banjir pada akhir musim panas.

Perbedaan tinggi daerah di bagian-bagian dataran tinggi ini menyebabkan sifat iklim di berbagai daerah itu berbeda-beda pula. Jenis tanaman kultur di daerah ini berbeda-beda sesuai dengan perbedaan sifat iklimnya.

Di sebelah Timur dataran tinggi ini terletak dataran pantai yang beriklim kering, yaitu wilayah Somalia di pantai teluk Aden dan wilayah Ethiopia (Eritrea) di pantai laut Merah.

Penduduk.

Meskipun penduduk Ethiopia pada umumnya berkulit berwarna, sebenarnya mereka itu keturunan orang Semit dan Hamit yang berkulit putih (induk bangsa Kaukasoid).

Sebagian besar penduduk Ethiopia beragama Kristen. Agama Kristen masuk ke Ethiopia dibawa oleh orang-orang Kopta dan Mesir. Di Mesir golongan Kristen Kopta itu merupakan minoritas. Di Ethiopia golongan Islamlah yang merupakan minoritas. Di sana masih terdapat penduduk yang berkepercayaan animisme dan dinamisme.

Mata pencaharian.

Pertanian.

Akibat dari perbedaan iklim karena perbedaan ketinggian tempat, bermacam-macam tumbuh-tumbuhan dapat tumbuh di daerah ini dengan tidak usah menggunakan irigasi.

Hasil pertanian dari daerah yang beriklim tropika di daerah ini yaitu kopi, tebu dan nenas. Kopi merupakan bahan ekspor dari Ethiopia. Tebu diolah di pabrik gula yang besar yang terdapat pula di Ethiopia.

Dari daerah yang beriklim subtropika, yaitu yang letaknya lebih tinggi dari daerah tropika, dihasilkan jeruk, kurma dan buah-buahan belatan.

Gandum dan kapas merupakan hasil dari daerah yang beriklim kering.

Daerah Afrika Timur pada umumnya banyak pula menghasilkan sisal sebagai hasil perkebunan yang penyelenggaraannya dilakukan sangat teratur.

Peternak

P
Merah
yang c

Pertam

B
tubara
diman

Perhub

Ja
an Jibo
ekspor
lb
Eritrea
P
gara la

NEGAR
AFRIKA

1. T
te
D

ra
K

2. pa
itu
ya
da
in
di

3. U
ny
ya
di
in

4. R
be

5. U
ng
in

Peternakan.

Peternakan di sini kurang penting. Daerah kering di pantai laut Merah merupakan daerah peternakan unta, biri-biri dan kambing yang diusahakan oleh penduduk secara nomad.

Pertambangan.

Bumi Ethiopia mempunyai persediaan barang tambang emas, batubara, tembaga dan bijih besi. Akan tetapi kekayaannya itu belum dimanfaatkan sebaik-baiknya.

Perhubungan.

Jalan kereta api menghubungkan Addis Abeba dengan pelabuhan Jibouti di wilayah Somali. Melalui jalan inilah kopi Ethiopia di ekspor.

Ibu kota Ethiopia ini dengan sebuah pelabuhan kecil di daerah Eritrea yaitu Assab dihubungkan dengan jalan raya.

Perhubungan yang paling mudah antara Ethiopia dengan negara lain yaitu melalui jalan udara.

NEGARA-NEGARA LAIN DI DALAM LINGKUNGAN DATARAN TINGGI AFRIKA TIMUR.

1. *Tanganyika*. Negara ini telah bergabung dengan Zanzibar yang terkenal sebagai penghasil cengkih terbesar di seluruh dunia. Di wilayah Tanganyika banyak dihasilkan sisal. Ibu kota negara ini yaitu Dar es Salam.
2. *Kenya*. Ibu kota republik Kenya yaitu Nairobi terletak di tepi patahan sebelah Timur. Pelabuhannya di lautan Indonesia yaitu Mombasa. Lama sebelum negara ini merdeka, penduduknya yaitu orang Mau-mau mengadakan gerakan perlawanan terhadap bangsa Eropa yang menduduki wilayahnya, karena mereka ingin memiliki pemerintahan yang dipimpin oleh bangsanya sendiri.
3. *Uganda*. Daerahnya di sebelah Utara danau Victoria. Ibu kotanya Entebbe sebuah kota di tepi danau Victoria. Tanahnya yang berelief kuat itu dimanfaatkan penduduknya untuk mendirikan pembangkit tenaga listrik yang dipergunakan untuk industrinya. Dari Uganda banyak dihasilkan kapas.
4. *Ruanda*. Negara ini berbentuk republik yang wilayahnya tidak begitu luas. Ibu kotanya Kigali.
5. *Urundi (Burundi)*. Negara ini merupakan sebuah kerajaan dengan ibu kotanya Usumbura. Seperti Ruanda, wilayah negara ini pun tidak begitu luas.

6. *Somalia*, Daerah Somalia ini asalnya terbagi-bagi menjadi *somalia Perancis*, *Somalia Inggeris* dan *Somalia Italia*, Yang terakhir ini setelah Perang Dunia II menjadi daerah Inggeris pula. Sekarang kita dapatkan di daerah ini sebuah republik *Somalia* dengan ibu kotanya *Mogadishu*. Pelabuhan *Jibbuti* merupakan tempat yang sering disinggahi kapal-kapal yang berlayar di teluk *Aden*.

Pertanyaan dan tugas :

1. Tahukah kamu apa sebabnya puncak gunung *Kilimanjaro* dan *Kenya* diliputi salju abadi, meskipun letaknya di daerah ekuator ? Pegunungan apakah di *Indonesia* yang keadaannya demikian ?
2. Dekat kota apakah letak pulau *Zanzibar* ?
3. Bahan mentah apakah yang diimpor *Indonesia* dari *Zanzibar* ?
4. Apakah yang dimaksud gerakan *Mau-mau* ? Di daerah mana gerakan itu terjadi ?
5. Golongan penduduk apakah yang menempati daerah *Afrika Timur* ? Dari manakah mereka itu datang ke tempat tersebut ?
6. Agama apakah yang dianut mayoritas penduduk *Ethiopia* ? Bandingkan dengan penduduk *Mesir* !
7. Hasil bumi apakah yang dihasilkan dari *Afrika Timur* dan sama dengan hasil bumi di *Filipina* ? Apakah sebabnya tanaman tersebut dapat dihasilkan juga di *Afrika Timur* ?
8. Apakah sebabnya sangat mudah dibuat orang pembangkit tenaga listrik di *Uganda* ? Dipergunakan untuk keperluan apakah tenaga listrik di sana ?

GHANA dan negara-negara di daerah *Guinea Hulu* yang lain.

Keadaan alam.

Republik *Ghana* merupakan salah satu negara yang terletak di daerah *Guinea Hulu*. Oleh karena itu pembicaraan mengenai *Ghana* disatukan dalam pembicaraan daerah *Guinea Hulu* pada umumnya.

Daerah *Guinea Hulu* terletak di sebelah Barat republik *Sudan* sampai ke pantai lautan *Atlantik*. Daerah itu merupakan tempat tinggal golongan penduduk yang termasuk orang *Negro Sudan Guinea*. Pada zaman kolonial, sebagian besar daerah ini merupakan daerah kekuasaan *Perancis* dan *Inggeris*. Dewasa ini hanya beberapa bagian yang sempit saja masih dikuasai orang *Eropa*.

Melihat keadaan alamnya, daerah ini terdiri atas :

- a. bagian yang paling Selatan, yaitu daerah hutan hujan tropika merupakan daerah yang berbatasan dengan *Congo*. Demikian pula daerah pantai teluk *Guinea*;

- b. bagian yang paling Utara, merupakan bagian Selatan dari gurun Sahara yang beriklim kering;
- c. bagian yang terletak di antara kedua bagian di atas, yaitu daerah peralihan antara daerah kering dengan daerah tropika, merupakan daerah stepa dan sabana.

Daerah yang terletak di sebelah Barat danau Chad mendapat pengaruh angin muson Baratdaya yang bertiup dari Samudra Atlantik pada musim panas di belahan bumi Utara (Juli). Angin tersebut menurunkan hujan di daerah pantai Guinea Hulu. Makin jauh ke pedalaman angin itu makin kering.



Peta XII. Negara-negara Guinea Hulu.

Angka Romawi pada peta ini berarti negara. Tulislah nama negara tsb. !
 Angka biasa berarti kota. Tulislah pula nama kota tsb. !
 Huruf berarti sungai dan danau. Sungai dan danau apakah itu ?

Pertanyaan dan tugas :

1. Buatlah peta daerah Guinea Hulu seperti Peta XII !
2. Gambarkanlah tanda panah yang melukiskan arah angin pada bulan Juli itu. Arsir pula daerah yang mendapat hujan !
3. Bagaimanakah keadaan angin pada bulan Januari (ketika musim panas di belahan bumi Selatan) ? Turun hujankah pada musim ini di Guinea Hulu ?
4. Sungai apakah yang mengalir di daerah Guinea Hulu ? Bagaimanakah keadaan sungai itu ?
5. Apakah sebabnya bagian Selatan daerah ini tertutup hutan lebat ?

Penduduk.

Orang Negro yang tinggal di daerah ini termasuk golongan Negro-Sudan-Guinea. Selain dari orang Negro, di daerah ini terdapat pula penduduk pendatang, yaitu orang Arab dari sebelah Timur, orang kulit putih dari Utara dan orang Tuareg, peternak nomad dari sebelah Barat. Di Nigeria tinggal segolongan Negro Sudan yang disebut orang Haussa; pisau buaatannya sangat terkenal.

GHANA

Daerah pantai Ghana tertutup hutan daun lebar yang lebat. Lebih ke pedalaman, merupakan daerah sabana tropika. Sungai Volta membagi wilayah Ghana menjadi dua bagian, bagian Utara dan Selatan. Daerah hutan hujan tropika Ghana merupakan daerah penghasil coklat yang jumlahnya tidak sedikit. Biji coklat itu dikirim ke luar negeri untuk diolah lebih lanjut. Kumasi sebuah kota di pedalaman Ghana merupakan pusat perkebunan coklat di negara itu. Bahan galian yang merupakan bahan ekspor dari Ghana yaitutimah dan emas. Accra merupakan ibu kota Ghana dan sekaligus menjadi kota pelabuhan. Kota pelabuhan lain yang keadaannya lebih baik yaitu Tukuradi tempat mengekspor hasil-hasil dari Ghana..

Ghana merdeka pada tahun 1960, merupakan sebuah republik. Sebelum merdeka daerah ini disebut Pantai Mas (Gold Coast) jajahan Inggris.

NEGARA-NEGARA GUINEA HULU YANG LAIN.

1. *Nigeria*,

Negara ini merupakan negara yang paling luas dan paling banyak penduduknya di antara bekas jajahan Inggris di pantai Barat Afrika. Hasil bumi yang utama dari negara ini yaitu kelapa sawit dan kacang tanah, keduanya merupakan bahan ekspor; dihasilkan juga coklat. Ibu kota negara ini yaitu Lagos. sebuah pelabuhan pula. Ibadan, kota lain yang cukup besar terletak di pedalaman.

2. *Republik Togo*, negara yang berbatasan dengan Ghana, ibu kotanya Lome.

3. *Republik Dahomey*, terletak di antara Togo dan Nigeria, bekas jajahan Perancis ibu kotanya Porto Novo.

4. *Republik Kamerun*, sebuah negara federasi dengan ibu kotanya Yakounde, sebuah kota pedalaman. Pelabuhannya yaitu Douala.

5. *Republik Afrika Timur*, ibu kotanya Bungi.

6. *Republik Chad*, ibu kotanya Fort Iamy, Meskipun wilayahnya luas, tetapi penduduknya sangat jarang, karena daerah ini me-

upakan bagian dari Gurun Sahara.

7. *Republik Niger*, ibu kotanya Niamey. Alamnya seperti republik Chad, sangat kering.
8. *Republik Mali*, ibu kotanya Bamako, di tepi sungai Niger. Bagian Selatan Mali merupakan daerah sabana tropika, sedangkan bagiannya yang paling Utara merupakan gurun sampai ke batas Aljazair.
9. *Republik Volta*, yaitu negara yang terletak di sebelah Utara Ghana, di antara Ghana dengan Mali, Pengaruh angin muson hampir tidak terasa di daerah ini. Ibu kotanya Ouagadougou.
10. *Republik Pantai Gading*, negara ini berbatasan dengan Ghana dan merupakan negara pantai yang banyak mendapat hujan. Ibu kotanya Abijan, termasuk bandar yang penting di Teluk Guinea.
11. *Republik Liberia*, negara ini merupakan negara asal orang-orang Negro yang dewasa ini disebut Negro Amerika. Pada abad ke 18 mereka itu dibawa ke benua Amerika sebagai budak belian oleh orang kulit putih. Ibu kotanya Monrovia.
12. *Republik Sierra Leone*, ibu kotanya Freetown. Bagian pantainya mendapat hujan, makin kedalam daerahnya makin tinggi dan merupakan sabana. Dari negara ini diekspor bijih besi.
13. *Republik Guinea*, ibu kotanya Conakry.
14. *Republik Gambia*, ibu kotanya Bathurst terletak di tepi sungai Gambia.
15. *Republik Senegal*, ibu kotanya Dacar.
16. *Republik Mauritania*, ibu kotanya Nouakchott.

Pertanyaan dan tugas :

1. Sungai2 apakah yang terdapat di daerah Guinea Hulu ?
2. Negara2 manakah yang dilalui sungai2 tersebut ?
3. Tulislah nama negara2 di pantai Guinea yang terletak di sebelah Barat Ghana ! Demikian pula yang di sebelah Timurnya !
4. Negara2 mana yang terletak di daerah gurun ? Apakah sebabnya meskipun negara2 ini luas, tetapi kurang penting ?
5. Disebelah Selatan Kamerun terdapat negara muda yang baru merdeka pada tahun 19 68. Negara apakah itu ?
6. Negara manakah penghasil kelapa sawit terpenting di Guinea Hulu ?
7. Negara mana pula penghasil coklat ?
8. Barang tambang apakah dihasilkan dari Ghana ? Apakah dari Sierra Leone ?
9. Daerah manakah yang masih merupakan daerah jajahan di bagian ini ?

AFRIKA SELATAN.

Kedaaan alam.

Bagian Afrika yang paling Selatan ini terdiri atas negara² :

Uni Afrika Selatan, Lesotho, Zwazia, Rhodesia, Zambia, Botswana dan Malawi. Ketujuh negara itu merupakan negara-negara merdeka. Di samping itu terdapat juga beberapa daerah yang belum merdeka, yaitu : Mozambique, Angola dan Afrika Baratdaya.

Bagian Tenggara daerah ini merupakan tanah pegunungan, yaitu pegunungan Naga. Di sebelah Barat pegunungan ini terdapat tanah dataran tinggi yang luas. Bagian Utara dataran tinggi ini dikenal dengan sebutan "Hogeveld", yaitu daerah yang meliputi propinsi Transvaal dan negara Oranje Merdeka (Oranje Free State). Bagian ini merupakan daerah stepa, akibat kurang hujan, karena terletak di bayangan hujan.

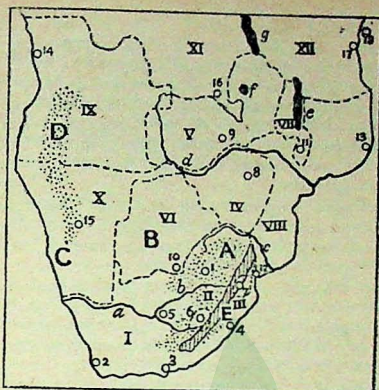
Lereng Timur pegunungan Naga mendapat banyak hujan sepanjang tahun, berasal dari angin pasat Tenggara yang basah.

Di sebelah Barat Hogeveld merupakan daerah yang sangat kering, yaitu gurun Kalahari dan di sepanjang pantai Barat gurun Namib.

Bagian yang paling Selatan wilayah Uni Afrika Selatan beriklim subtropika. Di sinilah orang berkulit putih bertempat tinggal.

Sungai penting yang mengalir di daerah ini, yaitu sungai Oranje dengan anak sungainya sungai Vaal. Kedua sungai itu berhulu di pegunungan Naga dan setelah bersatu akhirnya bermuara di Samudra Atlantik. Di batas Utara propinsi Transvaal, mengalir sungai Limpopo dan di ujung Selatan patahan Afrika Timur mengalir sungai Zambesi. Sungai-sungai itu besar sekali gunanya, terutama untuk pembangkit tenaga listrik dan untuk irigasi.

Di daerah Transvaal terdapat sebuah suaka margasatwa yang disebut "Krugerpark". Kruger yaitu nama seorang orang Jerman yang mempunyai pikiran mengadakan perlindungan terhadap binatang-binatang Afrika, karena dilihatnya, jika binatang-binatang itu dibiarkan diburu orang akhirnya akan punah. Di dalam taman itu orang dilarang berburu, sehingga binatang-binatang hidup dengan bebas di daerah yang cukup luas. Pengunjung Krugerpark tidak diperbolehkan ke luar dari dalam mobilnya, sementara supir yang telah berpengalaman senantiasa siap sedia untuk menjalankan mobilnya jika ada bahaya mengancam.



Peta XIII. Daerah Afrika Selatan.

Negara ²	I	Sungai ² /danau ² :
	II	a
	dst.	b
		dst.
Kota ² :	1	Drt./Peg./Gurun:
	2	A
	dst.	B
		dst.

Pertanyaan dan tugas :

1. Daerah lereng Timur pegunungan Naga banyak mendapat hujan. Apakah sebabnya ?
2. Bulan apakah turun hujan di daerah tersebut ? Apakah sebabnya ?
3. Apakah sebabnya di daerah Afrika Selatan yang dilalui garisballik Selatan itu terdapat gurun ? Gurun² apakah ?
4. Angin apakah yang mempengaruhi ujung paling Selatan Afrika Selatan ? Pada musim manakah angin itu bertiup ?
5. Apakah sebabnya di daerah paling Selatan ini banyak orang kulit putih tinggal ?
6. Di daerah manakah hulu sungai Oranje dan anak sungainya mengalir ?
7. Di bagian Afrika mana lagi terdapat suaka margasatwa seperti Krugerpark ?
8. Apakah sebabnya di sungai Zambesi banyak riam dan jeram ?

Penduduk.

Penduduk Afrika Selatan terdiri atas berbagai golongan, Penduduk aslinya yaitu orang-orang Hotentot dan Bushmen (Bosjesman). Mereka telah terdesak oleh orang-orang pendatang, yaitu orang-orang Negro dan kulit putih. Penduduk aslinya itu kemudian hanya menempati hutan-hutan daerah Congo dan daerah-daerah lain yang kering atau kurang subur. Orang Hottentot dikenal sebagai penduduk yang nomad dan orang Bushmen sejak dahulu terkenal sebagai pemburu.

Orang Negro yang menempati Afrika Selatan terdiri atas beberapa golongan pula, di antaranya orang Zulu di Natal, orang Keffer di daerah pantai Timur, orang Botswana di bagian Tengah dan orang Herero di sebelah Baratdaya.

Orang-orang kulit putih yang bertempat tinggal di Afrika Selatan sebagian besar terdiri atas orang Inggris dan Boer. Orang Boer yaitu turunan bangsa Belanda yang pertama-tama mengadakan kolonisasi di Afrika Selatan. Karena kehidupannya dari pertanian, mereka itu menamakan diri "boer" (= petani).

Di republik Uni Afrika Selatan masih terdapat praktek "politik pemisahan" (apartheid-politiek) yang artinya masih ada pemisahan antara orang kulit putih dengan kulit berwarna.

Timbulnya diskriminasi kulit itu berdasarkan pendapat orang kulit putih antara lain :

- a. Orang kulit putih merasa lebih tinggi derajatnya;
- b. hidup orang kulit berwarna lebih murah, jadi upah orang kulit berwarna harus lebih rendah dari pada orang kulit putih;
- c. orang kulit berwarna merupakan saingan dalam segala hal.

Kecuali golongan-golongan penduduk yang telah disebut di atas, di Afrika Selatan terdapat juga orang-orang Asia, terutama orang India yang di sana dinamakan orang Hindu. Jumlah orang Hindu ini cukup banyak dan kebanyakan tinggal di Natal. Mereka ini pun tak luput dari politik pemisahan di mata orang kulit putih.

Mata pencaharian.

Pertambangan dan industri.

Afrika Selatan sangat kaya akan persediaan barang tambang. Oleh karena itu bidang pertambangan merupakan sumber penghidupan yang sangat penting artinya bagi penduduk dan bagi negara. Hasil pertambangan yang sangat penting yaitu emas dan uranium. Karena pertambangan emas, yang produksinya terbanyak di seluruh dunia, yaitu di Witwatersrand, kota Johannesburg dengan cepat

berkembang menjadi kota besar. Johannesburg merupakan kota terbesar di bagian Afrika sebelah Selatan gurun Sahara. Hasil uranium dari daerah Afrika Selatan jumlahnya dapat mengalahkan hasil uranium daerah Zaire. Uni Afrika Selatan pernah merupakan penghasil terbesar intan. Tetapi dewasa ini hasil intannya telah dikalahkan oleh Zaire. Di Natal dan Transvaal banyak dihasilkan batubara. Zambia banyak pula menghasilkan tembaga Daerahnya dekat daerah tembaga Katanga di wilayah Zaire. Republik Rhodesia menghasilkan pula emas.

Kecuali bahan galian di atas, di daerah Afrika Selatan ini didapatkan pula platina, mangan, chrom, timah putih dan bijih besi.

Banyaknya macam dan jumlah persediaan bahan galian serta bahan bakar di daerah itu, ditambah pula alamnya yang memungkinkan dibangun pembangkit tenaga listrik serta banyaknya tenaga buruh murah, Uni Afrika Selatan dapat mengembangkan industrinya. Kecuali industri besi baja yang paling banyak mendapat perhatian pemerintah Afrika Selatan, dikembangkan pula industri tekstil untuk mengolah wol yang dihasilkannya, industri bahan makanan dan industri sepatu dan barang-barang dari kulit.

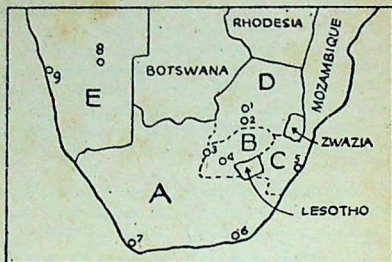
Pusat industri yang terpenting terdapat di propinsi Transvaal kotanya Johannesburg. Pemusatan industri terdapat pula di kota-kota pelabuhan seperti Durban, Capetown dan Port Elizabeth.

Pertanian dan peternakan.

Untuk memajukan pertanian di Afrika Selatan telah banyak dibangun bendungan-bendungan dan saluran-saluran air yang modern. Orang Negro menanam jagung yang hasilnya dijadikan bahan makanan pokok mereka. Hogevelde merupakan penghasil jagung dan gandum dalam jumlah yang banyak. Di Natal ditanam buah-buahan daerah tropika, sedangkan di daerah ujung Selatan Afrika Selatan merupakan daerah penghasil buah-buahan daerah subtropika (buah-buahan Selatan).

Yang menjadi hama pertanian di daerah ini, yaitu belalang. Binatang ini mendarang daerah pertanian dengan jumlah berjuta-juta, merusak dan bahkan menghabiskan tanam-tanaman yang dilaluinya. Kemajuan teknologi yang telah dicapai pengetahuan manusia, memungkinkan pemberantasan hama dapat dilakukan sebelum hama itu sempat menyerang daerah pertanian.

Di daerah yang kurang air untuk pertanian, diusahakan orang peternakan. Daerah stepa dan sabana di dataran tinggi seperti di Hogevelde, diternak orang lembu dan biri-biri (jenis Merino). Penyelenggara peternakan itu tidak hanya orang-orang Negro tetapi



Peta XIV. Uni Afrika Selatan

- | | |
|---------------------------|--------------------|
| A = Prop. Tanjung Harapan | 3 = Kimberley |
| B = Negara Oranje Merdeka | 4 = Bloemfontein |
| C = Natal | 5 = Durban |
| D = Transvaal | 6 = Port Elizabeth |
| E = Afrika Baratdaya | 7 = Capetown |
| 1 = Pretoria | 8 = Windhoek |
| 2 = Johannesburg | 9 = Teluk Walvis |

banyak pula pengusaha-pengusaha kulit putih. Hasilnya yang terutama wol dan kulit.

NEGARA-NEGARA DI DAERAH AFRIKA SELATAN

1. Uni Afrika Selatan.

Meskipun negara ini sebagian besar penduduknya orang Negro, tetapi kekuasaan terutama ada di tangan orang kulit putih. Uni Afrika Selatan ini meliputi Transvaal, Natal, Oranye Merdeka (Oranye Free State) dan Tanjung Harapan. Di samping itu

Afrika Baratdaya juga merupakan daerah pengawasan Uni Afrika Selatan. Ibu kota uni terdapat di Pretoria, tetapi parlemen bersidang di Capetown.

2. Republik Lesotho (dahulu : Basuto), terletak di tengah-tengah wilayah Uni Afrika Selatan, sebuah negara baru merdeka pada tahun 1966. Ibu kotanya Maseru.

3. Republik Zwazia, Kemerdekaan negara ini diperoleh lebih kemudian dari Lesotho, yaitu pada tahun 1968. Ibu kotanya Mbabane

4. Re
- tar
- ng
5. Re
- Ut
- ba
- Lu
6. Re
7. Re
- let
- Zc
8. M
- rik
- lik
9. Ar
- An
- dar
- Bih
- har
- per
- me

Pertanya

1. Gole
- Sela
2. Ora
- di A
3. Hal2
- Ben
4. Bah
- daer
5. Dal
6. Fak
- kan
7. Cari
8. Bua
- Sela
9. Apa
- juga
10. Per
- Men
- bua

4. *Republik Rhodesia*. Daerah ini dahulu disebut Rhodesia Selatan bekas anggota federasi Afrika Tengah bersama-sama dengan Rhodesia Utara dan Nyasa, Ibu kotanya Salisbury.
5. *Republik Zambia*. Sebelum merdeka Zambia bernama Rhodesia Utara, Nama Zambia diambil dari nama sungai yang menjadi batas Selatan wilayah negara itu, yaitu Zambesi. Ibu kotanya Lusaka.
6. *Republik Botswana* (Bechuana). Ibu kotanya Mafeking.
7. *Republik Malawi* (dahulu : Nyasa), sebuah negara yang terletak di tepi Barat dan Selatan danau Nyasa. Ibu kotanya Zomba.
8. *Mozambique*, daerah kekuasaan Portugis, di pantai Timur Afrika. Letaknya berhadapan dengan pulau Madagaskar (Republik Malagasi). Kota besarnya Lorenzo Marques.
9. *Angola*, kalau Mozambique terletak di pantai Timur, maka Angola adalah jajahan Portugis di pantai Barat Afrika. Bagian dari wilayahnya merupakan dataran tinggi yaitu dataran tinggi Bihe, Kotanya yang penting yaitu Lobito, merupakan pelabuhan tempat mengeksport barang-barang hasil daerah itu dan dipergunakan pula sebagai pelabuhan transit oleh Zaire untuk mengeksport tembaga dari daerah Katanga.

Pertanyaan dan tugas :

1. Golongan penduduk apa sajakah yang menempati daerah Afrika Selatan ? Golongan mana yang dianggap sebagai penduduk asli ?
2. Orang kulit putih dari manakah yang pertama mendirikan kolonisasi di Afrika Selatan ? Dinamakan apakah mereka itu ?
3. Hal2 apakah yang menimbulkan diskriminasi kulit di Afrika ? Benarkah pendapat mereka itu ?
4. Bahan galian apakah yang terdapat di Afrika Selatan ? Cari pula daerah tempat bahan galian itu ditambang, di peta !
5. Dalam hal apakah Afrika Selatan dapat dibandingkan dengan Zaire ?
6. Faktor apakah yang mendorong Afrika Selatan dapat mengembangkan industrinya ?
7. Carilah di peta pusat2 industri yang terkenal !
8. Buah2an apakah yang termasuk buah2an subtropika (buah2an Selatan) itu ?
9. Apakah kiranya sebabnya pemerintah Afrika Selatan mengembangkan juga industri kulit/ sepatunya ?
10. Perhatikanlah letak Lobito terhadap Kisangani (di daerah Katanga). Mengertikah kamu mengapa Zaire mengeksport tembaganya melalui pelabuhan Lobito ?

DAFTAR ISI

	Halaman
Kata pengantar	
AFRIKA	
Mesir	21
Negara-negara sekitar Mesir	28
Sudan	31
Aljazair	31
Negara-negara Atlas yang lain.	
Maroko	34
Daeras Congo	35
Republik Malagasi	40
Pulau-pulau lain	40
Ethiopia	42
Negara-negara lain di dalam lingkungan dataran tinggi	
Afrika Timur.	45
Ghana dan negara-negara di daerah Guinea Hulu yang lain	46
Afrika Selatan	50
Negara-negara di daerah Afrika Selatan	53

Halaman

.....	21
.....	28
.....	31
.....	31
.....	34
.....	35
.....	40
.....	40
.....	42
ggi
.....	45
ain
.....	46
.....	50
.....	53





tanda buku belk

carate bandung